

Riflessione linguistica

Approfondimento linguistico-geografico

© Studio Arcobaleno Multimedia - Anno 2016



La posizione in Italia e il nome della Regione



Veneto

Dove si trova questa Regione?

- A Nord
- Nel Centro
- A Sud

Con quali Regioni confina?

.....

.....

.....

Qual è l'origine del suo nome?

.....

.....

.....

.....


Riflessione linguistica

Approfondimento linguistico-geografico

© Studio Arcobaleno Multimedia - Anno 2016



Qual è il suo stemma?



Qual è il suo capoluogo di Regione?

.....

Riflessione linguistica

Approfondimento linguistico-geografico

© Studio Arcobaleno Multimedia - Anno 2016



La carta politica della Regione

Scrivi il nome di tutte le città più importanti della Regione, nella loro posizione.

The map shows the Veneto region in Italy, with neighboring regions labeled: AUSTRIA to the north, TRENTINO-ALTO ADIGE to the northwest, FRIULI-VENEZIA GIULIA to the northeast, LOMBARDIA to the southwest, and EMILIA-ROMAGNA to the south. Major cities and towns are marked, including Belluno, Udine, Treviso, Vicenza, Padova, Venezia, and Verona. The map also shows the Alps (Alpi Carniche), the Piave river, and the Venetian lagoon (Golfo di Venezia). Six empty boxes with lines pointing to specific locations are provided for labeling:

- Box 1: Points to the northernmost part of the region, near the Alps.
- Box 2: Points to the western part of the region, near the Alps.
- Box 3: Points to the eastern part of the region, near the Friuli-Venezia Giulia border.
- Box 4: Points to the southern part of the region, near the Emilia-Romagna border.
- Box 5: Points to the northern part of the region, near the Alps.
- Box 6: Points to the southern part of the region, near the Emilia-Romagna border.




Riflessione linguistica

Approfondimento linguistico-geografico

© Studio Arcobaleno Multimedia - Anno 2016



Riconosci le città da uno dei monumenti più importanti che la rappresenta.



Quale provincia manca?

.....

Conosci altri paesi di questa Regione? Se sì, quali?

.....
.....
.....

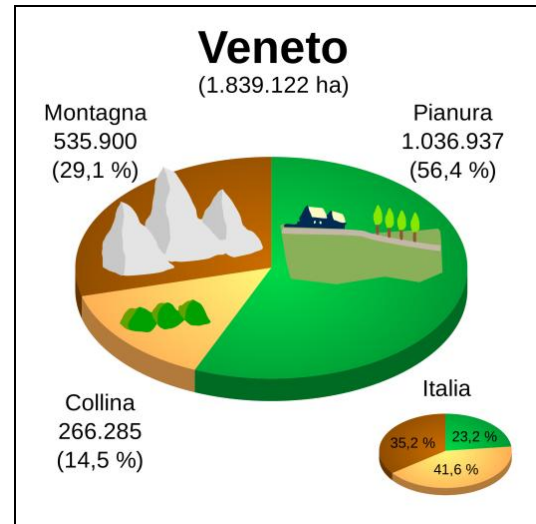
Riflessione linguistica

Approfondimento linguistico-geografico

© Studio Arcobaleno Multimedia - Anno 2016



Letture della carta fisica della Regione



Osserva la carta geografica e il grafico.

Individua le zone di montagna, di collina e di pianura.

Leggi il nome di paesi o di città che si trovano in zone di:

MONTAGNA

COLLINA

PIANURA

Quale area è più vasta?

.....

Questa Regione è bagnata dal mare?

.....

Vedi fiumi o laghi nel suo territorio? Se sì, quali?

.....

Riflessione linguistica

Approfondimento linguistico-geografico

© Studio Arcobaleno Multimedia - Anno 2016



Nelle carte geografiche il territorio, come hai visto, è caratterizzato dai colori simbolici.

Che cosa rappresentano questi colori?

Marrone scuro


Marrone chiaro

Azzurro scuro

Azzurro chiaro

Verde

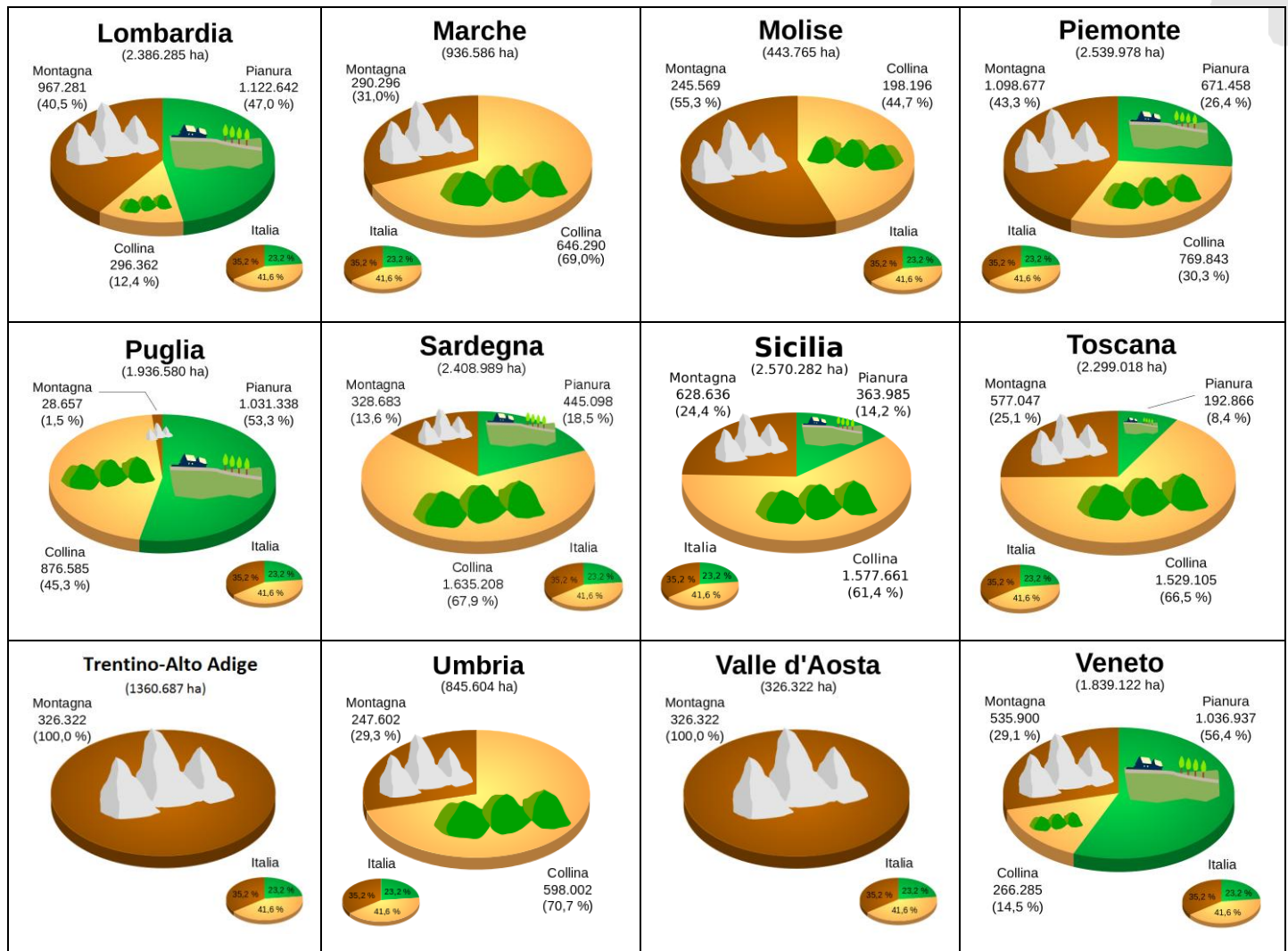
Giallo



Riflessione linguistica

Approfondimento linguistico-geografico

© Studio Arcobaleno Multimedia - Anno 2016



Questa Regione è più montuosa di

e meno montuosa di

Ci sono più colline che in

e meno colline che in

Le sue pianure sono più vaste di quelle di

e meno vaste di quelle di

Riflessione linguistica

Approfondimento linguistico-geografico

© Studio Arcobaleno Multimedia - Anno 2016



UNO SGUARDO ALLA CITTÀ



Questa è la mappa di una zona di Venezia che hai già visto negli itinerari di viaggio proposti da Everywhereinitalia. Scegli due tra i monumenti o le chiese o gli edifici che vedi disegnati e che desideri visitare. Collegati alle mappe di Google per poter verificare il percorso che devi fare a piedi partendo da uno dei due punti che hai scelto. Scrivi l'itinerario qui di seguito indicando anche i tempi di percorrenza necessari.

.....

.....

.....

.....

.....

.....

.....

.....

.....

.....

Riflessione linguistica

Approfondimento linguistico-geografico

© Studio Arcobaleno Multimedia - Anno 2016



Per comprendere l'economia e il paesaggio della Regione

Un'economia rinnovata

Fino a poche decine di anni fa, il Veneto basava la sua economia sull'agricoltura, ma negli ultimi decenni ci sono stati molti cambiamenti. La ricchezza d'acqua della regione ha favorito la costruzione di numerose centrali termoelettriche e idroelettriche; la medesima ragione ha permesso lo sviluppo dell'industria metallurgica, la più importante del Veneto, unitamente a quella chimica.

Sono poi sorte numerose piccole industrie, che impiegano anche molti operai provenienti da altri Paesi dell'Europa e del mondo.

Una moderna agricoltura fornisce granturco, barbabietole, frutta e ortaggi. Numerosissimi sono i prodotti di alta qualità, garantiti da marchi particolari, soprattutto vini e formaggi.

Le attività artigianali hanno mantenuto un loro piccolo, ma importante spazio nell'economia del Veneto: in particolare a Murano si producono preziosi oggetti in vetro soffiato e a Burano merletti raffinati, lavorate con tecniche antichissime.

Sono molti i turisti stranieri che ogni anno vengono a trascorrere le loro vacanze in Italia e scelgono il Veneto. In particolare il loro interesse si rivolge alle Dolomiti, al Lago di Garda, alle località balneari dell'Adriatico e, soprattutto, a Venezia.

Trasforma il testo che hai letto in una intervista. Tu dovrai rispondere al giornalista che chiede informazioni sul paesaggio veneto.

L'economia della Regione ha subito una notevole trasformazione qualche decina di anni fa.

Quali cambiamenti si possono segnalare che hanno dato una importante svolta all'economia?

.....

Quali sono le industrie principali presenti sul suo territorio?

.....

Di che cosa si occupano?

.....

Ci sono anche piccole industrie che impiegano forze lavoro provenienti dall'estero?

.....

L'agricoltura di oggi che cosa produce principalmente?

.....

Riflessione linguistica

Approfondimento linguistico-geografico

© Studio Arcobaleno Multimedia - Anno 2016



Quali prodotti sono garantiti dal marchio di qualità?

.....

Ci sono due centri particolarmente rinomati in tutto il mondo: Murano e Burano. Che cosa producono?

.....

Il turismo rappresenta una delle maggiori risorse del territorio. In quali località è molto sviluppato? Come mai?

.....

Ora fai tu una domanda e cerca di darti la risposta.

D:

R:

In conclusione...

Qual è la tua valutazione complessiva sull'economia di questa Regione?

.....

Quale attività vorresti svolgere? Perché?

.....

Dove vorresti abitare e perché?

.....

Che cosa suggeriresti a un turista di vedere?

.....

Quale prodotto artigianale vorresti acquistare per ricordo della tua visita in questa Regione?

.....

Riflessione linguistica

Approfondimento linguistico-geografico

© Studio Arcobaleno Multimedia - Anno 2016



VENETO

Terra dei cento paesaggi

Il Veneto si trova nella parte nordorientale della penisola italiana.

Questa regione presenta una grande varietà di paesaggi: dalle alte cime delle Dolomiti (1) alle spiagge dell'Adriatico (2), dalle rive del Lago di Garda (3) alla quiete del Delta del Po (4), attraverso valli ricche di arte, di cultura, di tradizioni e di storia come quelle dei fiumi Brenta (5) e Adige (6).

La presenza di differenti ambienti e paesaggi ha favorito lo sviluppo di attività economiche molto varie: l'agricoltura (7) e l'industria in pianura (8), l'allevamento nelle zone prealpine (9), il turismo invernale (10) ed estivo in alta montagna (11), la pesca di allevamento sul litorale (12).

Abbina le foto alle frasi che descrivono la Regione.



Cime del Brenta sulle Dolomiti (.....)



Agricoltura nel Veneto (.....)



Allevamento (.....)



Turismo invernale a Cortina (.....)



Turismo nel Bellunese (.....)

Riflessione linguistica

Approfondimento linguistico-geografico

© Studio Arcobaleno Multimedia - Anno 2016



Rive del Lago di Garda (.....)




La quiete del delta del Po (.....)



Industria della lana a Schio (.....)



Pesca di allevamento presso sul delta del Po (.....)



Adige a Verona: storia e arte (.....)



Ville del palladio sul Brenta (.....)

Riflessione linguistica

Approfondimento linguistico-geografico

© Studio Arcobaleno Multimedia - Anno 2016



Segna se le seguenti affermazioni sono vere (V) o false (F).

Il Veneto si trova nella parte nordorientale dell'Italia	V	F
Il Veneto ospita molto turismo, sia invernale che estivo	V	F
Il paesaggio di questa regione non è molto vario	V	F
Le attività economiche del Veneto sono l'agricoltura e la pesca	V	F

Ricerca il significato corretto di queste parole.

Nordorientale:

quiete:

allevamento:

Scrivi in breve le caratteristiche della regione Veneto.

.....

.....

.....

.....

.....

Riflessione linguistica

Approfondimento linguistico-geografico

© Studio Arcobaleno Multimedia - Anno 2016



Rileggi la descrizione del territorio del Veneto e svolgi le seguenti attività.

Un ponte dalle Alpi all'Adriatico

La regione Veneto può essere divisa idealmente in quattro parti, del tutto diverse tra di loro. A Nord svettano le Dolomiti, con la Marmolada e il Monte Civetta.

Verso Ovest si trovano le Prealpi, con i Monti Lessini e l'Altopiano di Asiago.

La vasta zona di pianura è racchiusa, invece, tra la riva orientale del Lago di Garda e il Delta del Po ed è interrotta dai **dolci pendii** dei Colli Euganei.

Lungo il Mar Adriatico si sviluppa la **fascia costiera**, al centro della quale, sulla laguna, sorge la città di Venezia.

Il Monte Cristallo domina Cortina d'Ampezzo, una delle località sciistiche più famose del mondo. Sullo sfondo **si stagliano** i profili irregolari delle Dolomiti, le "montagne rosa", paradiso di roccia per gli arrampicatori.

L'Altopiano di Asiago, i Colli Berici, i Monti Lessini e il Monte Baldo sono ricchi di abetaie, boschi di **alberi sempreverdi**, che digradano in ampi pascoli. Questi boschi sono il regno di animali e uccelli selvatici come volpi, ghiri, lepri, galli cedroni ...

Il Veneto è attraversato dal più lungo fiume d'Italia, il Po, che sfocia con **un ampio Delta** nell'Adriatico dopo aver percorso 652 chilometri di lunghezza. Tutta la regione, oltre al Po, è ricchissima di corsi d'acqua, fra cui i fiumi Brenta, Adige e Piave.

Il Lago di Garda, chiamato anche Benaco, è il più grande d'Italia: è lungo 52 chilometri e largo fino a 17 chilometri nel suo punto più ampio. È diviso tra tre regioni: Veneto, Lombardia, Trentino-Alto Adige.

Come tutti i laghi della fascia alpina, è di origine glaciale: il suo bacino è stato scavato milioni di anni fa da un enorme ghiacciaio "scivolato" dalle Alpi verso la pianura.

Riflessione linguistica

Approfondimento linguistico-geografico

© Studio Arcobaleno Multimedia - Anno 2016



Spiega il significato delle espressioni evidenziate in giallo.

- Dolci pendii:
- fascia costiera:
- si stagliano:
- alberi sempreverdi:
- un ampio Delta:

Nel testo sono citati gli alberi “sempreverdi”, come vedi sottolineato.

Fai una ricerca e scopri almeno 5 tipi di piante e alberi sempreverdi che crescono in Italia e con l'aiuto del vocabolario scrivi il loro nome in italiano e in inglese.

ITALIANO

INGLESE

.....
.....
.....
.....
.....