

Riflessione linguistica

Approfondimento linguistico-geografico

© Studio Arcobaleno Multimedia - Anno 2016



La posizione in Italia e il nome della Regione



Valle d'Aosta

Dove si trova questa Regione?

- A Nord
- Nel Centro
- A Sud

Con quali Regioni confina?

.....
.....
.....

Qual è l'origine del suo nome?

.....
.....
.....
.....

Riflessione linguistica

Approfondimento linguistico-geografico

© Studio Arcobaleno Multimedia - Anno 2016



Qual è il suo stemma?



Qual è il suo capoluogo di Regione?

.....

Riflessione linguistica

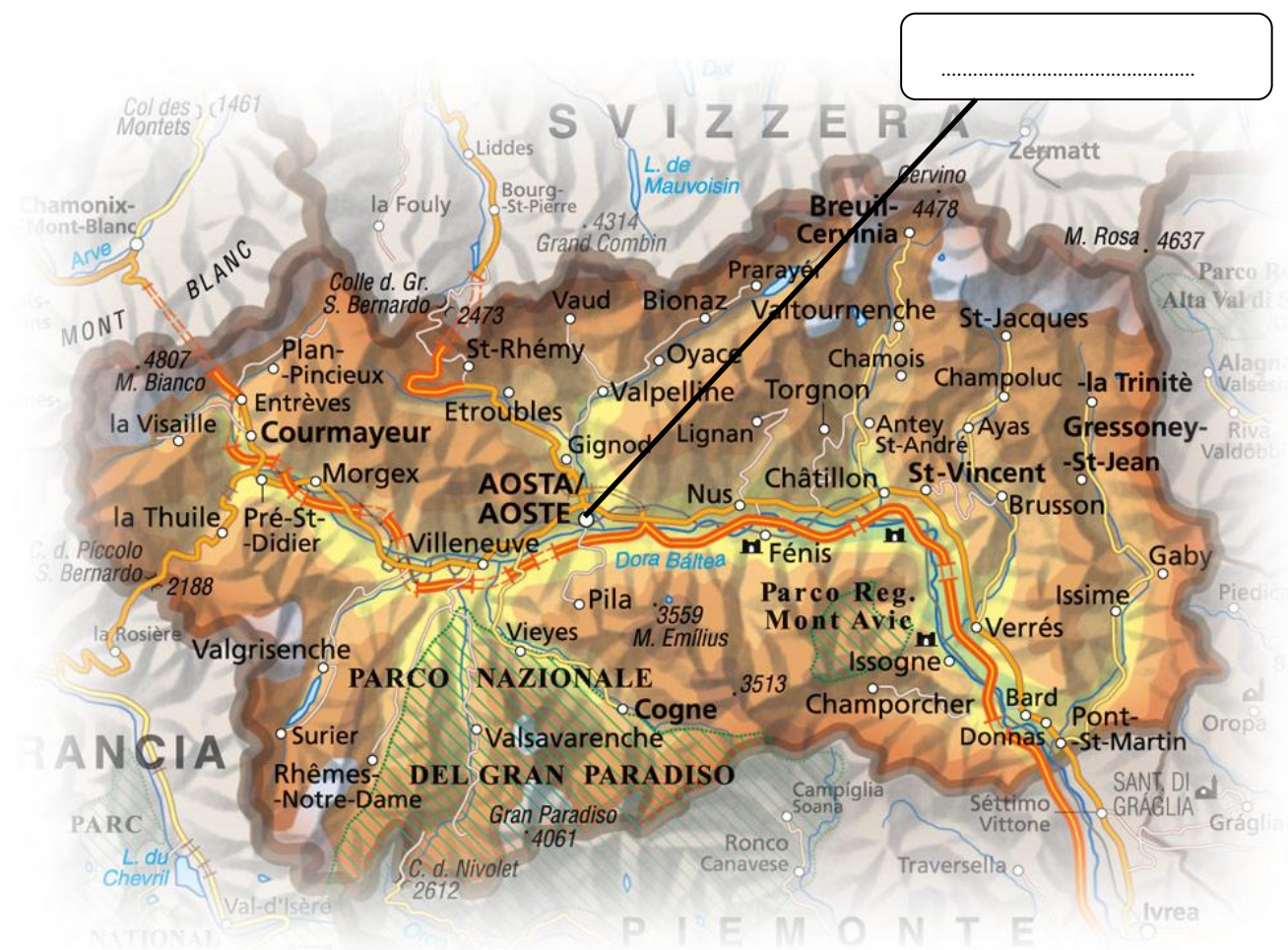
Approfondimento linguistico-geografico

© Studio Arcobaleno Multimedia - Anno 2016



La carta politica della Regione

Scrivi il nome di tutte le città più importanti della Regione, nella loro posizione.



Riflessione linguistica

Approfondimento linguistico-geografico

© Studio Arcobaleno Multimedia - Anno 2016



Riconosci le città da uno dei monumenti più importanti che la rappresenta.



.....

Conosci altri paesi di questa Regione? Se sì, quali?

.....
.....
.....

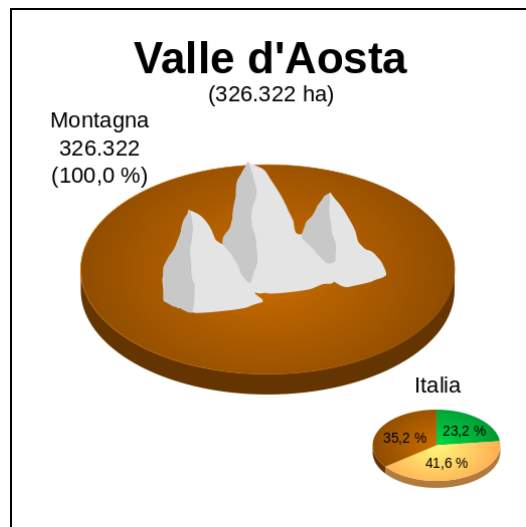
Riflessione linguistica

Approfondimento linguistico-geografico

© Studio Arcobaleno Multimedia - Anno 2016



Letture della carta fisica della Regione



Osserva la carta geografica e il grafico.

Individua le zone di montagna, di collina e di pianura.

Leggi il nome di paesi o di città che si trovano in zone di:

MONTAGNA

COLLINA

PIANURA

Quale area è più vasta?

.....

Questa Regione è bagnata dal mare?

.....

Vedi fiumi o laghi nel suo territorio? Se sì, quali?

.....

Riflessione linguistica

Approfondimento linguistico-geografico

© Studio Arcobaleno Multimedia - Anno 2016



Nelle carte geografiche il territorio, come hai visto, è caratterizzato dai colori simbolici.

Che cosa rappresentano questi colori?

Marrone scuro

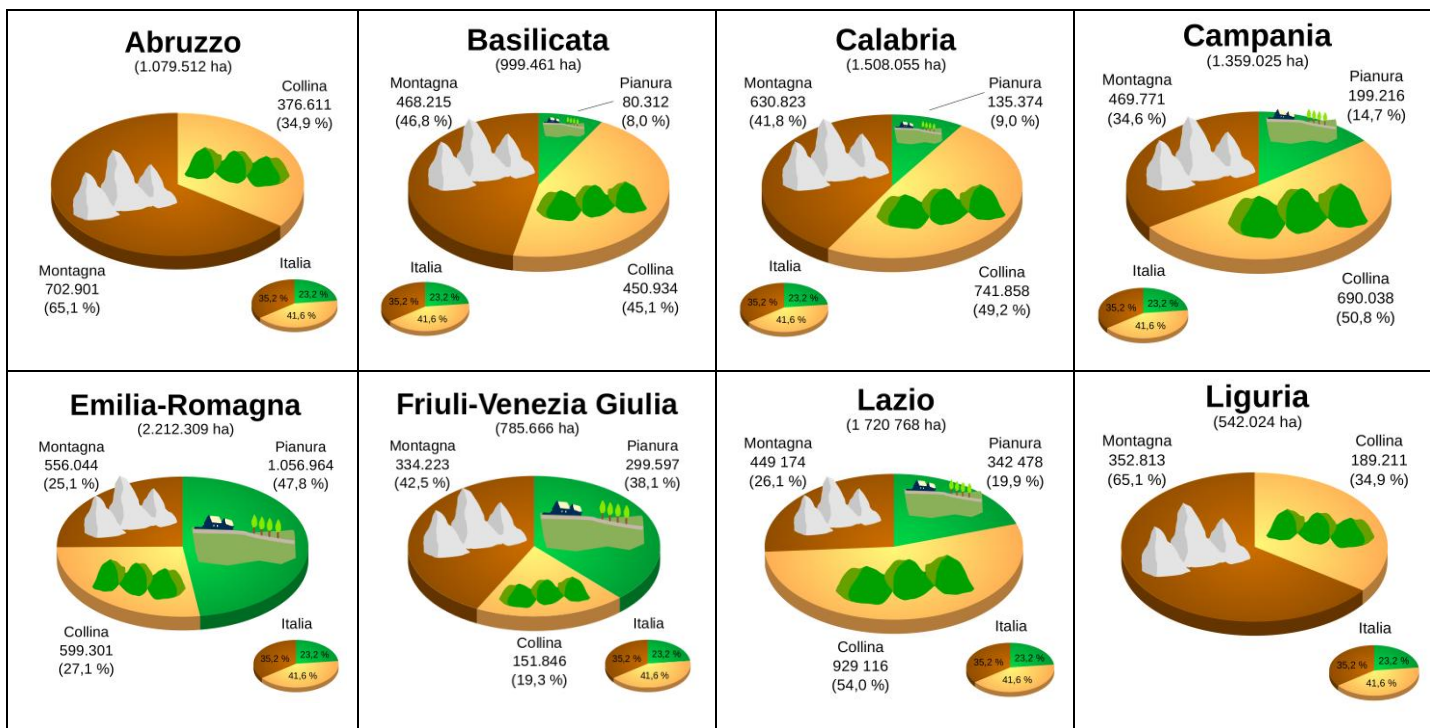
Marrone chiaro

Azzurro scuro

Azzurro chiaro

Verde

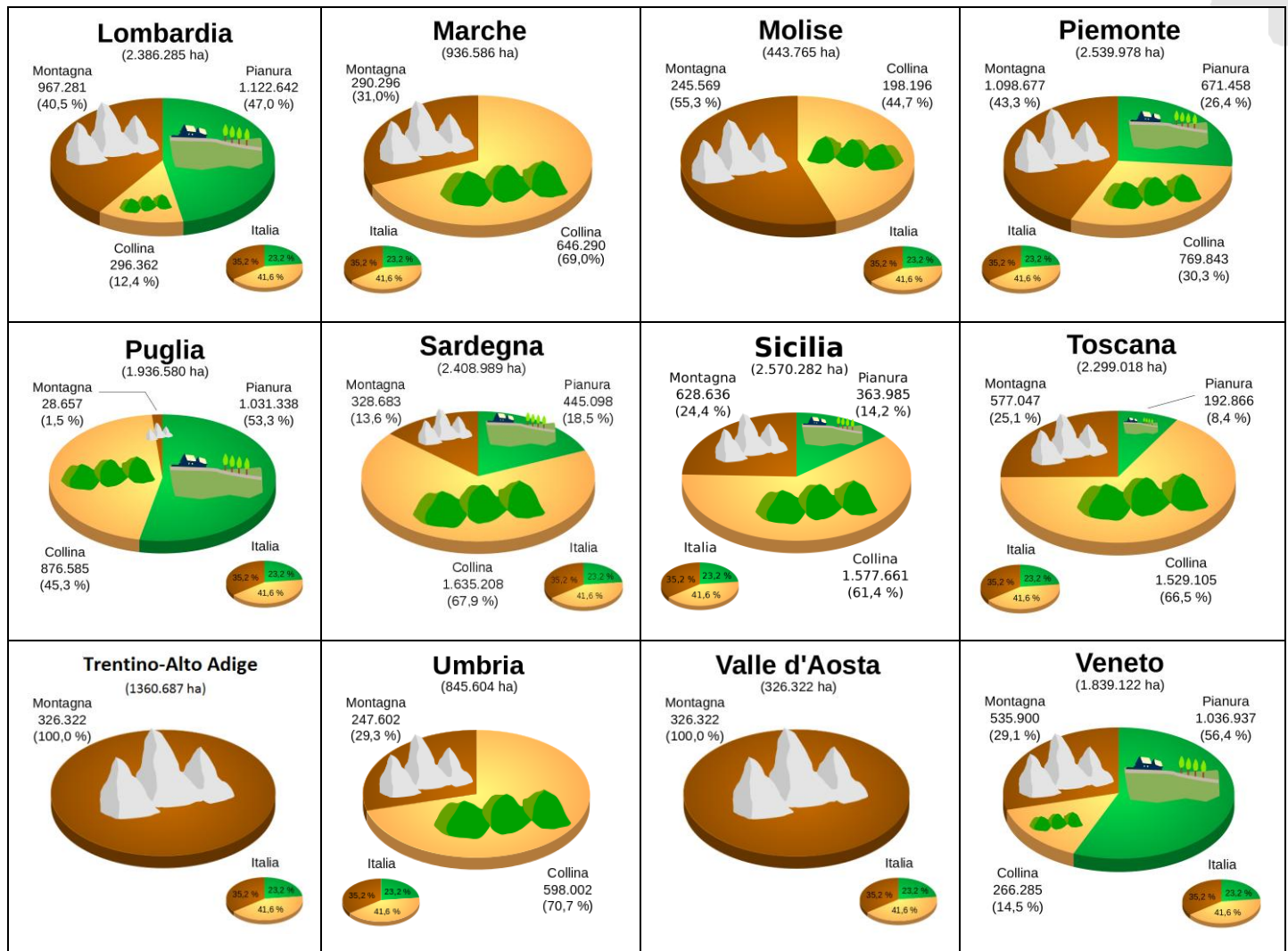
Giallo



Riflessione linguistica

Approfondimento linguistico-geografico

© Studio Arcobaleno Multimedia - Anno 2016



Questa Regione è più montuosa di

e meno montuosa di

Ci sono più colline che in

e meno colline che in

Le sue pianure sono più vaste di quelle di

e meno vaste di quelle di

Riflessione linguistica

Approfondimento linguistico-geografico

© Studio Arcobaleno Multimedia - Anno 2016



UNO SGUARDO ALLA CITTÀ



Questa è la mappa di una zona di Aosta che hai già visto negli itinerari di viaggio proposti da Everywhereinitalia. Scegli due tra i monumenti o le chiese o gli edifici che vedi disegnati e che desideri visitare. Collegati alle mappe di Google per poter verificare il percorso che devi fare a piedi partendo da uno dei due punti che hai scelto. Scrivi l'itinerario qui di seguito indicando anche i tempi di percorrenza necessari.

.....

.....

.....

.....

.....

.....

.....

.....

.....

.....

Riflessione linguistica

Approfondimento linguistico-geografico

© Studio Arcobaleno Multimedia - Anno 2016



Per comprendere l'economia e il paesaggio della Regione

Dove la natura diventa una risorsa

L'economia della Valle d'Aosta fino alla fine dell'Ottocento è stata legata a un'agricoltura povera (patate, segale e lino), allo sfruttamento del legname e all'allevamento di bovini e ovini. Collegate a queste attività si sono sviluppate nel tempo la produzione di mobili e oggetti d'arredo, la produzione di formaggi e salumi e la tessitura.

All'inizio del Novecento molti imprenditori hanno trasferito le loro fabbriche dalla Pianura Padana alla valle della Dora, dove c'era disponibilità di energia elettrica, dando inizio a una prima industrializzazione che, però, riguardava solo la zona di fondovalle. Dagli anni sessanta del Novecento in poi, la diffusione degli sport invernali ha cambiato il modo di vivere anche nelle valli: il turismo è diventato di massa e sono stati costruiti strade, case, alberghi e impianti di risalita.

Trasforma il testo che hai letto in una intervista. Tu dovrai rispondere al giornalista che chiede informazioni sul paesaggio valdostano.

Fino al 1800 la Regione aveva un'economia molto povera. A che cosa si dedicano i suoi abitanti?

.....

Quali erano i prodotti coltivati?

.....

Che cosa allevavano?

.....

Come sfruttavano i boschi di cui la Regione era particolarmente ricca?

.....

In relazione alle possibilità naturali della Regione che cosa producevano gli abitanti di questa terra?

.....

Come è cambiata l'economia all'inizio del Novecento?

.....

Dove si è sviluppata una industrializzazione?

.....

Dagli anni sessanta del Novecento si verifica una svolta nell'economia della Regione. Da che cosa è determinata?

.....

Riflessione linguistica

Approfondimento linguistico-geografico

© Studio Arcobaleno Multimedia - Anno 2016



Che cosa è stato fatto per favorire l'attività turistica?

.....

Ora fai tu una domanda e cerca di darti la risposta.

D:

R:

In conclusione...

Qual è la tua valutazione complessiva sull'economia di questa Regione?

.....

Quale attività vorresti svolgere? Perché?

.....

Dove vorresti abitare e perché?

.....

Che cosa suggeriresti a un turista di vedere?

.....

Quale prodotto artigianale vorresti acquistare per ricordo della tua visita in questa Regione?

.....

Riflessione linguistica

Approfondimento linguistico-geografico

© Studio Arcobaleno Multimedia - Anno 2016



VALLE D'AOSTA

Montagne e limpide acque

Milioni di anni fa un immenso ghiacciaio ricopriva le Alpi e l'intero territorio della Valle d'Aosta. Lingue di ghiaccio scendevano fino alla pianura, scavando profondi solchi tra le cime alpine. Quando i ghiacci si sciolsero, restò al loro posto una lunga valle, dentro cui si raccolsero tutte le acque dei torrenti che scendevano dai fianchi delle montagne. Si formò così la Dora Baltea (1), il cui nome conserva il ricordo di quei tempi.

Dora infatti deriva da una forma dialettale (doira) che indica un corso d'acqua, e Baltea ricorda l'antico ghiacciaio che i geologi chiamarono Balteo.

Lungo il corso del fiume si svilupparono i centri abitati più importanti (2), punto di riferimento sia per i villaggi sparsi nelle valli laterali (3), sia per i viaggiatori che lungo questo corridoio naturale risalivano verso i valichi del Piccolo (4) e Gran San Bernardo (5).

Abbina le foto alle frasi che descrivono la Regione.



Gran San Bernardo (.....)



Cheverel villaggio (.....)



Piccolo San Bernardo (.....)

Riflessione linguistica

Approfondimento linguistico-geografico

© Studio Arcobaleno Multimedia - Anno 2016



La Dora Baltea a Le pont Saint Martin (.....)



La Dora Baltea (.....)

Segna se le seguenti affermazioni sono vere (V) o false (F).

La Valle d'Aosta milioni di anni fa era ricoperta da un immenso ghiacciaio	V	F
Al posto dei ghiacci restò una lunga valle	V	F
I centri abitati più importanti non si svilupparono mai lungo il fiume	V	F
Il nome "Dora" deriva da una forma dialettale che significa "ghiaccio"	V	F

Ricerca il significato corretto di queste parole.

Solchi:

geologi:

valichi:

Scrivi in breve le caratteristiche della regione Valle d'Aosta.

.....
.....
.....
.....
.....

Riflessione linguistica

Approfondimento linguistico-geografico

© Studio Arcobaleno Multimedia - Anno 2016



Rileggi la descrizione del territorio della Valle D'Aosta e svolgi le seguenti attività.

Di cima in cima, di valle in valle...

Lunga 100 chilometri circa e larga poco meno di 65, con una superficie di 3260 chilometri quadrati, la Valle d'Aosta è la regione italiana più piccola e meno popolata. Il suo territorio comprende le vette più alte nella catena alpina: il Monte Bianco (4810 metri), il Monte Rosa (4637 metri) e il Cervino (4478 metri), a cui si devono aggiungere altre **numerose cime** che superano i 3000 metri.

La valle principale, che dà il nome alla regione, è formata dalla Dora Baltea. Il fiume **nasce dall'unione di due torrenti**, la Dora di Ferret e la Dora di Veny, **alimentati dai ghiacciai** del Monte Bianco. Sia la valle principale che alcune valli laterali hanno alla testata (punto in cui la valle finisce) dei valichi (passi) che fin dalla Preistoria hanno favorito il passaggio di uomini e merci **da un versante all'altro** delle Alpi. Per questo motivo la Valle d'Aosta, malgrado l'**asprezza del territorio**, non è mai stata isolata.

Spiega il significato delle espressioni evidenziate in giallo.

- Numerose cime:
- Nasce dall'unione (di due torrenti):
- alimentati dai ghiacciai:
- da un versante all'altro:
- asprezza del territorio:

Nel testo sono citati alcuni nomi di monti e di fiumi che vedi sottolineati.

Fai una ricerca per individuare dove si trovano nella regione usando i punti cardinali Nord, Sud Ovest, Est.

MONTI

-
-
-
-
-

FIUMI

-
-
-
-
-