

# Riflessione linguistica

Approfondimento linguistico-geografico

© Studio Arcobaleno Multimedia - Anno 2016



## La posizione in Italia e il nome della Regione



**Sicilia**

**Dove si trova questa Regione?**

- A Nord
- Nel Centro
- A Sud

**Con quali Regioni confina?**

.....

.....

.....

**Qual è l'origine del suo nome?**

.....

.....

.....

.....


# Riflessione linguistica

Approfondimento linguistico-geografico

© Studio Arcobaleno Multimedia - Anno 2016



Qual è il suo stemma?



Qual è il suo capoluogo di Regione?

.....

# Riflessione linguistica

Approfondimento linguistico-geografico

© Studio Arcobaleno Multimedia - Anno 2016



## La carta politica della Regione

Scrivi il nome di tutte le città più importanti della Regione, nella loro posizione.

The map shows the island of Sicily with various geographical features and cities. Ten empty boxes are connected to specific locations on the map by lines:

- Box 1 (top left): Points to the western coast, likely Palermo.
- Box 2 (top center): Points to the northern coast, likely Messina.
- Box 3 (top right): Points to the eastern coast, likely Catania.
- Box 4 (middle left): Points to the western coast, likely Trapani.
- Box 5 (middle center): Points to the central-eastern coast, likely Enna.
- Box 6 (middle right): Points to the southern coast, likely Siracusa.
- Box 7 (bottom left): Points to the southern coast, likely Agrigento.
- Box 8 (bottom center): Points to the southern coast, likely Ragusa.
- Box 9 (bottom right): Points to the southern coast, likely Nicosia.
- Box 10 (bottom center): Points to the southern coast, likely Caltanissetta.

# Riflessione linguistica

Approfondimento linguistico-geografico


© Studio Arcobaleno Multimedia - Anno 2016



Riconosci le città da uno dei monumenti più importanti che la rappresenta.



.....



.....



.....




.....



.....



.....



.....



.....



.....

Conosci altri paesi di questa Regione? Se sì, quali?

.....  
.....  
.....

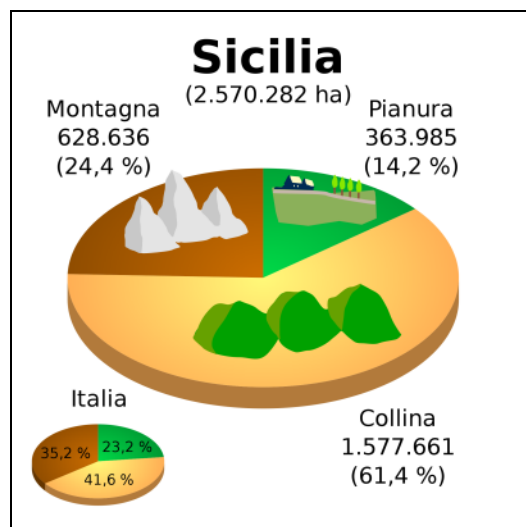
# Riflessione linguistica

Approfondimento linguistico-geografico

© Studio Arcobaleno Multimedia - Anno 2016



## Letture della carta fisica della Regione



Osserva la carta geografica e il grafico.

Individua le zone di montagna, di collina e di pianura.

Leggi il nome di paesi o di città che si trovano in zone di:

MONTAGNA .....

COLLINA .....

PIANURA .....

Quale area è più vasta?

.....

Questa Regione è bagnata dal mare?

.....

Vedi fiumi o laghi nel suo territorio? Se sì, quali?

.....

# Riflessione linguistica

Approfondimento linguistico-geografico

© Studio Arcobaleno Multimedia - Anno 2016



Nelle carte geografiche il territorio, come hai visto, è caratterizzato dai colori simbolici.

Che cosa rappresentano questi colori?

Marrone scuro .....

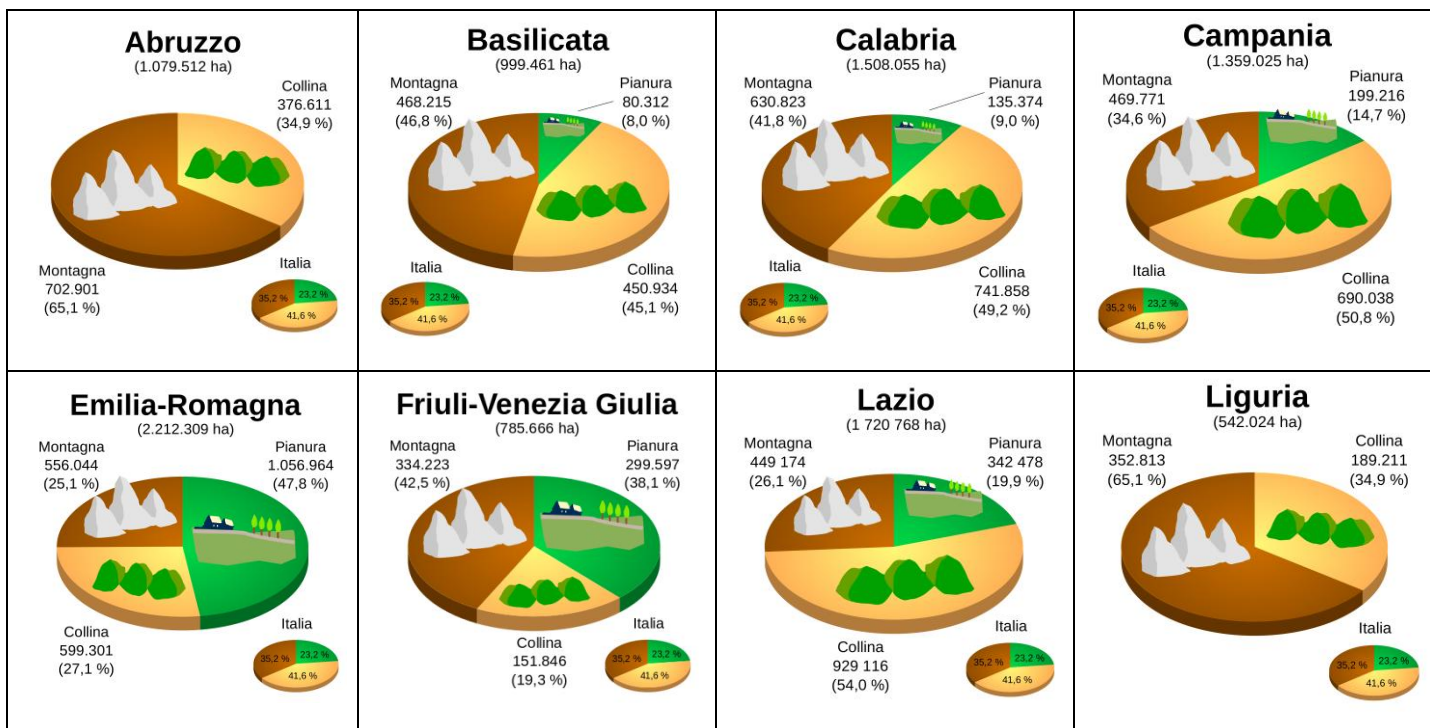
Marrone chiaro .....

Azzurro scuro .....

Azzurro chiaro .....

Verde .....

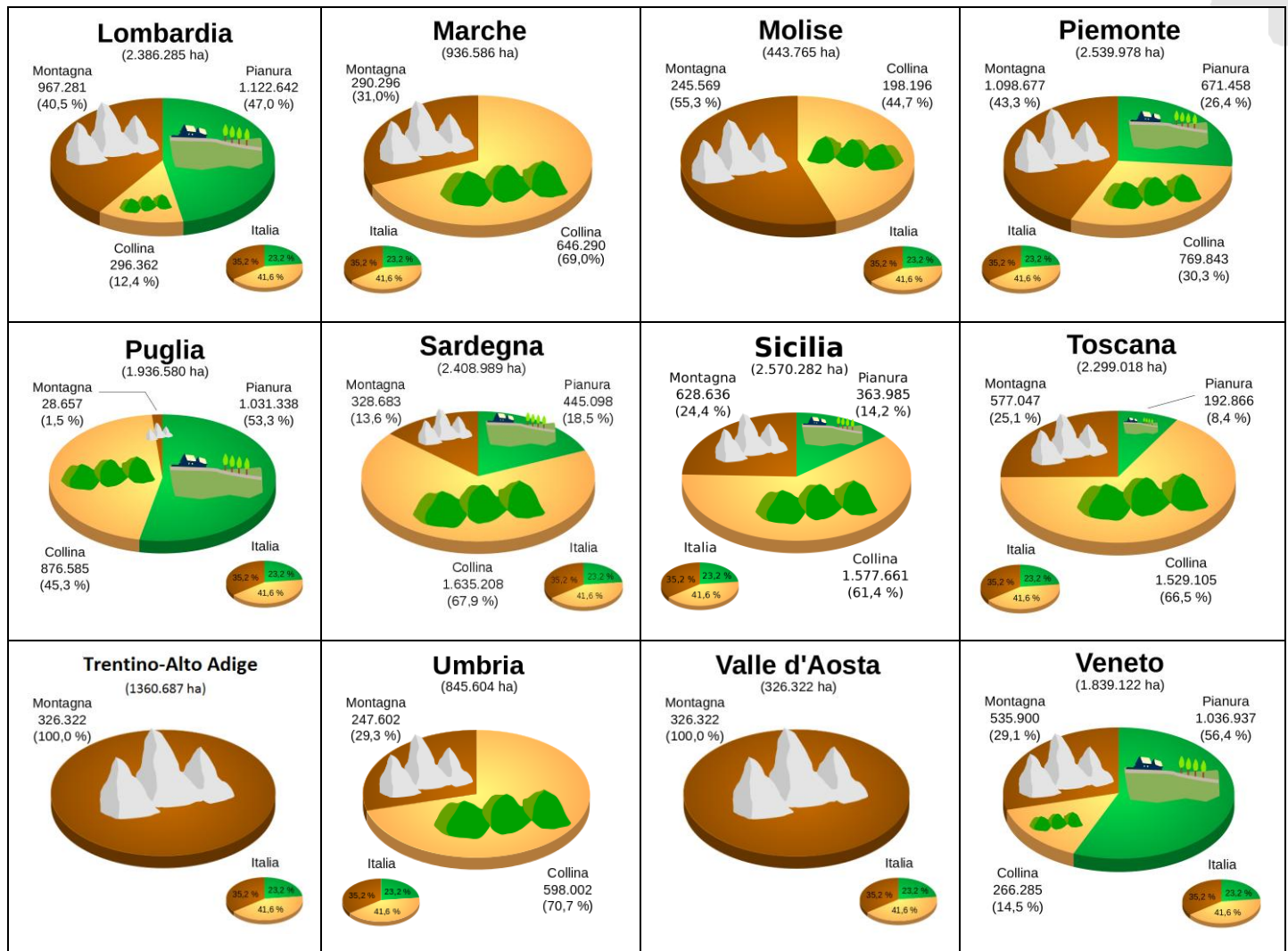
Giallo .....



# Riflessione linguistica

Approfondimento linguistico-geografico

© Studio Arcobaleno Multimedia - Anno 2016



Questa Regione è più montuosa di .....

e meno montuosa di .....

Ci sono più colline che in .....

e meno colline che in .....

Le sue pianure sono più vaste di quelle di .....

e meno vaste di quelle di .....

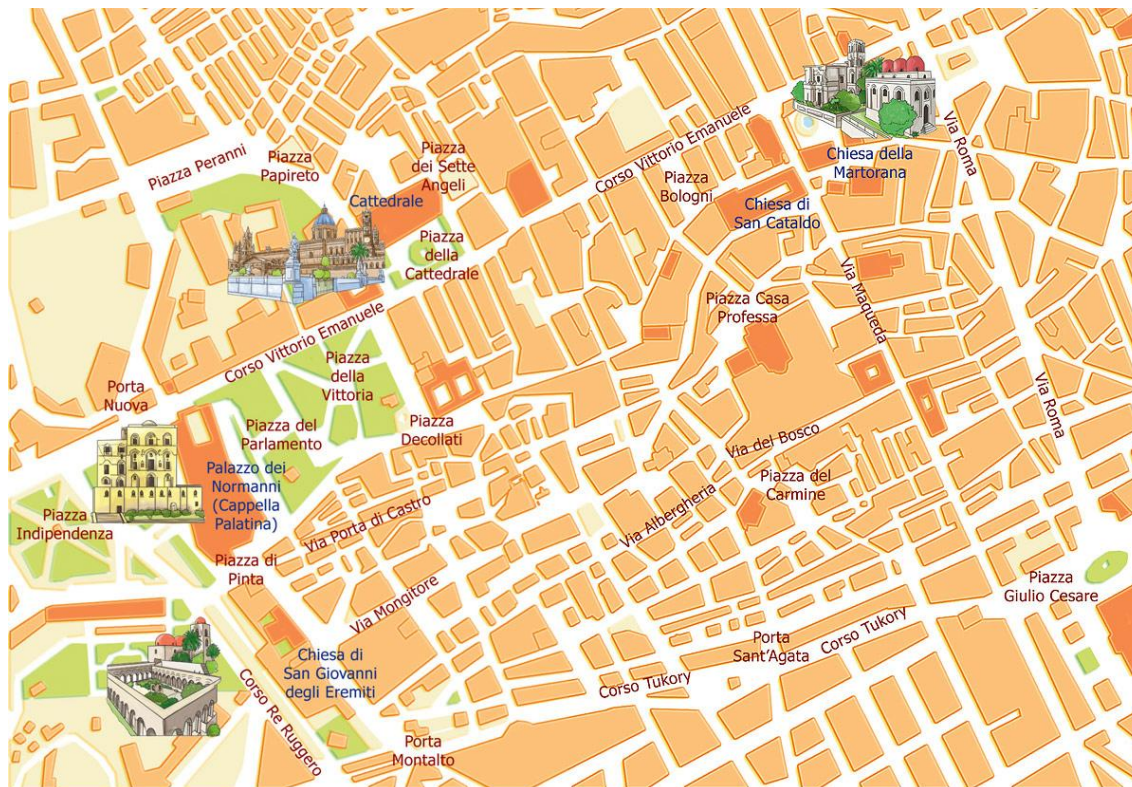
# Riflessione linguistica

Approfondimento linguistico-geografico

© Studio Arcobaleno Multimedia - Anno 2016



## UNO SGUARDO ALLA CITTÀ



Questa è la mappa di una zona di Palermo che hai già visto negli itinerari di viaggio proposti da Everywhereinitalia. Scegli due tra i monumenti o le chiese o gli edifici che vedi disegnati e che desideri visitare. Collegati alle mappe di Google per poter verificare il percorso che devi fare a piedi partendo da uno dei due punti che hai scelto. Scrivi l'itinerario qui di seguito indicando anche i tempi di percorrenza necessari.

.....

.....

.....

.....

.....

.....

.....

.....

.....

.....



# Riflessione linguistica

Approfondimento linguistico-geografico

© Studio Arcobaleno Multimedia - Anno 2016



## Per comprendere l'economia e il paesaggio della Regione

### Grazie a clima e tradizione

Fin dai tempi antichi, la Sicilia era famosa per la sua fiorente agricoltura; grazie soprattutto alla ricca produzione di cereali veniva chiamata “granaio d’Italia”.

Ancora oggi il settore agricolo è il più importante dell’economia regionale, anche se il primato non spetta più al grano, ma agli agrumi (arance, mandarini, limoni) e agli ortaggi (melanzane, carote, zucchine, carciofi) coltivati nei terreni e nelle serre delle zone costiere.

Pregiati sono anche l’olio e il vino prodotti nelle zone collinari dell’interno.

Le attività industriali sono limitate: raffinerie e industrie petrolchimiche nelle zone di Gela, Augusta, Milazzo; una grande fabbrica di automobili Fiat a Termini Imerese.

L’attività più importante dei territori costieri è la pesca, soprattutto la pesca del tonno nel Trapanese e quella del pescespada nel Messinese.

Anche l’artigianato, legato alle più antiche tradizioni, è una risorsa fondamentale per l’economia siciliana; si producono gioielli di corallo a Palermo e Messina, oggetti in sughero nella zona dell’Etna, pizzi a Ragusa e ceramiche a Caltagirone.

La Sicilia offre stupendi paesaggi naturali, importanti monumenti e numerose testimonianze del suo ricco passato; per questo il turismo è diffuso in ogni parte della regione.

**Trasforma il testo che hai letto in una intervista. Tu dovrai rispondere al giornalista che chiede informazioni sul paesaggio siciliano.**

Perché la Sicilia veniva chiamata “granaio d’Italia”?

.....

Che posto detiene nell’economia della regione il settore agricolo?

.....

Quali sono i prodotti principali?

.....

Anche gli ortaggi occupano un posto importante. Quali soprattutto?

.....

Le industrie non sono molto sviluppate. In quali zone si trovano delle industrie?

.....

# Riflessione linguistica

Approfondimento linguistico-geografico

© Studio Arcobaleno Multimedia - Anno 2016



La pesca invece è molto fiorente. Di che cosa si occupa soprattutto?

L'artigianato di lunghissima tradizioni si occupa di gioielli, pizza e ceramiche. Dove vengono sviluppate queste attività?

Il turismo verso questa Regione da che cosa è attratto?

**Ora fai tu una domanda e cerca di darti la risposta.**

D: .....

R: .....

**In conclusione...**

Qual è la tua valutazione complessiva sull'economia di questa Regione?

Quale attività vorresti svolgere? Perché?

Dove vorresti abitare e perché?

Che cosa suggeriresti a un turista di vedere?

Quale prodotto artigianale vorresti acquistare per ricordo della tua visita in questa Regione?

# Riflessione linguistica

Approfondimento linguistico-geografico

© Studio Arcobaleno Multimedia - Anno 2016



## SICILIA

### Isola dei tre mari

La Sicilia è la maggiore isola del Mediterraneo.

È stata chiamata Trinacria (dalle tre punte) e infatti assomiglia a un triangolo.

È bagnata da tre mari, il Tirreno (1) a Nord, lo Ionio (2) a Est e il Mar di Sicilia (3) a Sud; è separata dalla penisola italiana dallo stretto di Messina (4).

Attorno alle coste della Sicilia si trovano splendide isole, riunite in piccoli arcipelaghi: le Eolie (5) e Ustica a Nord (6); l'arcipelago delle Egadi (7) a Ovest, a poca distanza dalla costa di Trapani (8); le Pelagie (9), a Sud, protese verso l'Africa.

**Abbina le foto alle frasi che descrivono la Regione.**



Favignana nelle Isole Egadi (.....)



Sicilia sul Mare Tirreno (.....)

# Riflessione linguistica

Approfondimento linguistico-geografico

© Studio Arcobaleno Multimedia - Anno 2016



Costa vicino a Trapani (.....)



Isole Pelagie (.....)



Costa Ionica vicino a Taormina (.....)



Mare di Sicilia (.....)



Isole Eolie: Lipari (.....)



Stretto di Messina (.....)



Isola di Ustica (.....)

# Riflessione linguistica

Approfondimento linguistico-geografico

© Studio Arcobaleno Multimedia - Anno 2016



Segna se le seguenti affermazioni sono vere (V) o false (F).

La Sicilia è l'isola più estesa del Mediterraneo	V	F
La forma della Sicilia assomiglia a un triangolo	V	F
La Sicilia è separata dalla penisola italiana dallo Stretto di Gibilterra	V	F
Le Sicilia è bagnata da due mari: Mar Ionio e Mar Adriatico	V	F

Ricerca il significato corretto di queste parole.

Trinacria: .....

stretto: .....

arcipelago: .....

Scrivi in breve le caratteristiche della regione Sicilia.

.....

.....

.....

.....

Rileggi la descrizione del territorio della Sicilia e svolgi le seguenti attività.

## Le terre del sole

Il territorio della Sicilia è caratterizzato dalla forte diversità tra le **zone dell'entroterra** e le **fasce costiere**.

La parte centrale della regione, a clima molto caldo, presenta un paesaggio dominato da rilievi collinari, spesso ricoperti da immense coltivazioni di frumento.

Le catene montuose più elevate si trovano nella punta Nord-Est dell'isola: sono i Monti Peloritani, i Nebrodi e le Madonie, su cui crescono fitti boschi di lecci, faggi e querce; qui vivono in libertà istrici, gatti selvatici e martore.

Le coste dell'isola si estendono per ben 1.500 chilometri: a Nord sono più alte e interrotte da numerosi golfi, promontori e insenature; ad Est, sul Mar Ionio, alternano tratti con **rocce scoscese** a zone pianeggianti, come la Piana di Catania; a Sud la costa è piatta e sabbiosa con spiagge lunghissime.

Le isole dell'arcipelago delle Eolie, dalle piccole Alicudi e Filicudi, sino a Lipari, Stromboli e Vulcano, Panarea e Salina, sono di origine vulcanica: si sono formate dalla **lava solidificata** di ripetute **eruzioni vulcaniche**.

# Riflessione linguistica

Approfondimento linguistico-geografico

© Studio Arcobaleno Multimedia - Anno 2016



**Spiega il significato delle espressioni evidenziate in giallo.**

Zone dell'entroterra: .....

fasce costiere: .....

rocce scoscese: .....

lava solidificata: .....

eruzioni vulcaniche: .....

**Nel testo sono citati alcuni nomi di animali che vedi sottolineati.**

Li conosci? Cerca le foto per identificarli e scrivi il loro nome in inglese.

Questi animali vivono anche nel tuo Paese? Se sì, dove? Li hai mai visti?

ITALIANO

INGLESE

Istrice .....

Gatto selvatico .....

Martora .....