

# Riflessione linguistica

Approfondimento linguistico-geografico

© Studio Arcobaleno Multimedia - Anno 2016



## La posizione in Italia e il nome della Regione



**Sardegna**

**Dove si trova questa Regione?**

- A Nord
- Nel Centro
- A Sud

**Con quali Regioni confina?**

.....

.....

.....

**Qual è l'origine del suo nome?**

.....

.....

.....

.....


# Riflessione linguistica

Approfondimento linguistico-geografico

© Studio Arcobaleno Multimedia - Anno 2016



Qual è il suo stemma?



Qual è il suo capoluogo di Regione?

.....

# Riflessione linguistica

Approfondimento linguistico-geografico

© Studio Arcobaleno Multimedia - Anno 2016



## La carta politica della Regione

Scrivi il nome di tutte le città più importanti della Regione, nella loro posizione.

The map shows the island of Sardinia with the following regions labeled: **Capo Ferro**, **Barbagia**, **Monti del Gennargentu**, **Barbicanu**, **Monte Limbara**, **Angona**, **Logudoro**, **Arborea**, **Campidanu**, **Sardegna Orientale**, **Sardegna Occidentale**, **Sardegna Settentrionale**, **Sardegna Meridionale**, **Sardegna Settentrionale Occidentale**, **Sardegna Settentrionale Orientale**, **Sardegna Meridionale Occidentale**, **Sardegna Meridionale Orientale**.

Major cities and locations marked on the map include: **Corsica (Francia)**, **Bocche di Bonifacio**, **Capo Testa**, **Maddalena**, **Capo Ferro**, **Santa Teresa Gallura**, **Palau**, **Arzachena**, **Porto Cervo**, **Capo Ferro**, **Punta di li Francesi**, **Castelsardo**, **Tempio Pausania**, **Lago di Liscia**, **Golfo di Olbia**, **Olbia**, **Capo Coda Cavallo**, **Capo Comino**, **Alghero**, **Fertilia**, **Nuraghe S. Antine**, **Ozieri**, **M. Nieddu**, **971**, **Capo Marargiu**, **Bosa**, **Macomer**, **Orani**, **Orgosolo**, **Grotta del Buc Marino**, **Capo Mannu**, **Stagno di Cabras**, **Cabras**, **Oristano**, **Sorgono**, **Monti del Gennargentu**, **1834**, **Punta la Marmora**, **Arborea**, **Barumini**, **Lanusei**, **Arbatax**, **Capo Pecora**, **Guspini**, **Villasor**, **Senorbi**, **Villaputzu**, **Capo Teulada**, **Capo Spartivento**, **Iglesias**, **Assemini**, **Sestu**, **Sardegna**, **Quartu Sant'Elena**, **Carbonia**, **Stagno di Cagliari**, **CAGLIARI**, **Villasimius**, **Capo Carbonara**, **San Pietro**, **Sant'Antioco**, **Sant'Antioco**, **Capo Teulada**, **Capo Spartivento**.

Eight empty boxes with lines pointing to specific locations are provided for labeling:

- Box 1: Points to the northern tip of the island (Capo Ferro).
- Box 2: Points to the eastern coast (Capo Ferro).
- Box 3: Points to the western coast (Alghero).
- Box 4: Points to the central-western coast (Oristano).
- Box 5: Points to the central-eastern coast (Arborea).
- Box 6: Points to the southern coast (Cagliari).
- Box 7: Points to the southern coast (Cagliari).
- Box 8: Points to the southern coast (Cagliari).


# Riflessione linguistica

Approfondimento linguistico-geografico

© Studio Arcobaleno Multimedia - Anno 2016



Riconosci le città da uno dei monumenti più importanti che la rappresenta.



.....



.....



.....



.....



.....



.....

Quali province mancano? .....

Conosci altri paesi di questa Regione? Se sì, quali?

.....  
.....  
.....

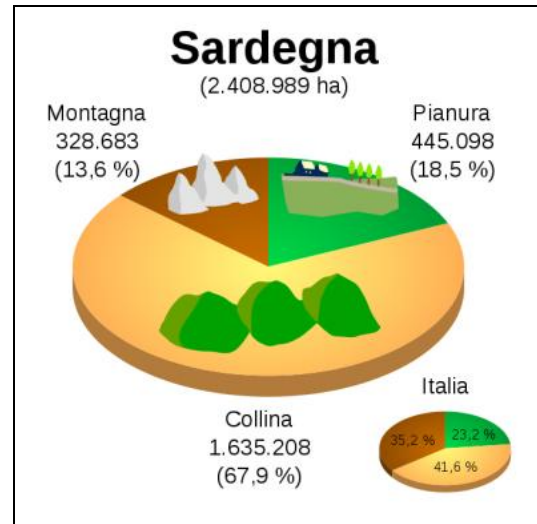
# Riflessione linguistica

Approfondimento linguistico-geografico

© Studio Arcobaleno Multimedia - Anno 2016



## Letture della carta fisica della Regione



Osserva la carta geografica e il grafico.

Individua le zone di montagna, di collina e di pianura.

Leggi il nome di paesi o di città che si trovano in zone di:

MONTAGNA .....

COLLINA .....

PIANURA .....

Quale area è più vasta?

.....

Questa Regione è bagnata dal mare?

.....

Vedi fiumi o laghi nel suo territorio? Se sì, quali?

.....

# Riflessione linguistica

Approfondimento linguistico-geografico

© Studio Arcobaleno Multimedia - Anno 2016



Nelle carte geografiche il territorio, come hai visto, è caratterizzato dai colori simbolici.

Che cosa rappresentano questi colori?

Marrone scuro .....

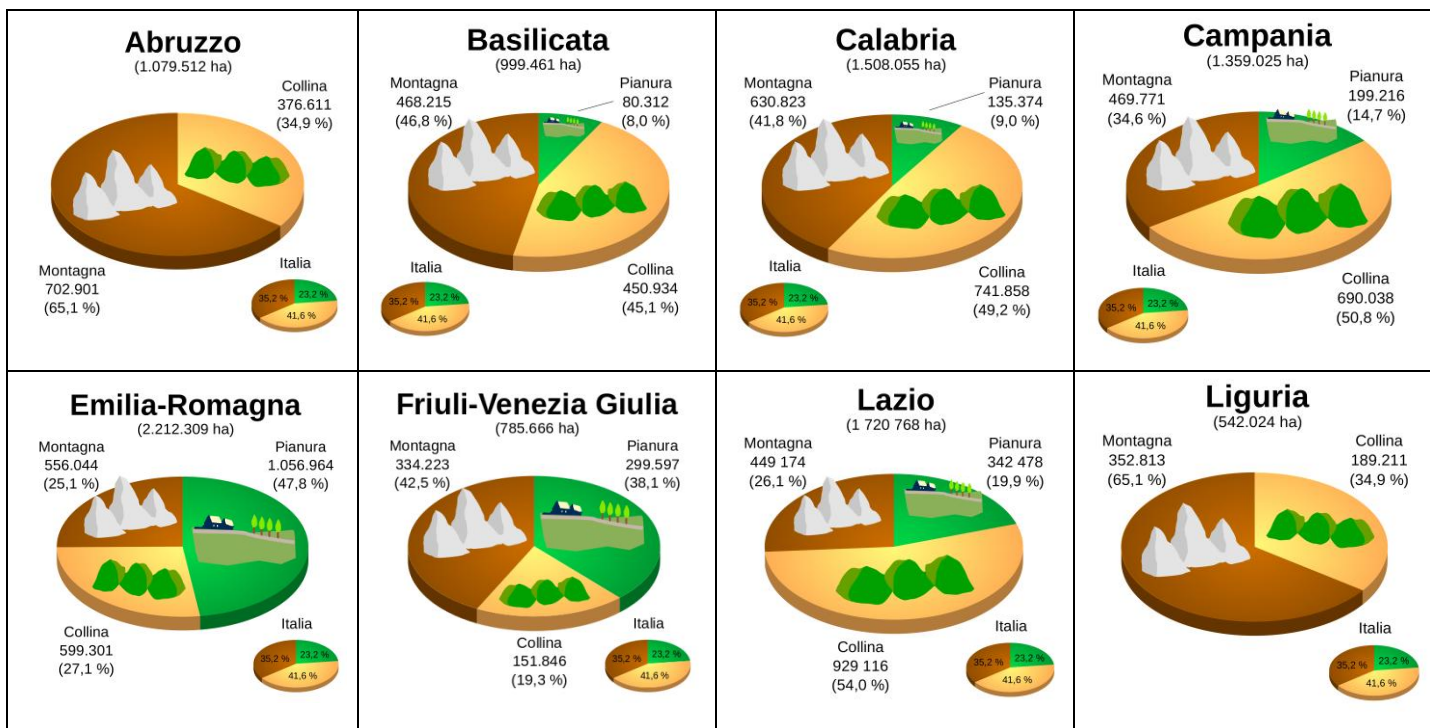
Marrone chiaro .....

Azzurro scuro .....

Azzurro chiaro .....

Verde .....

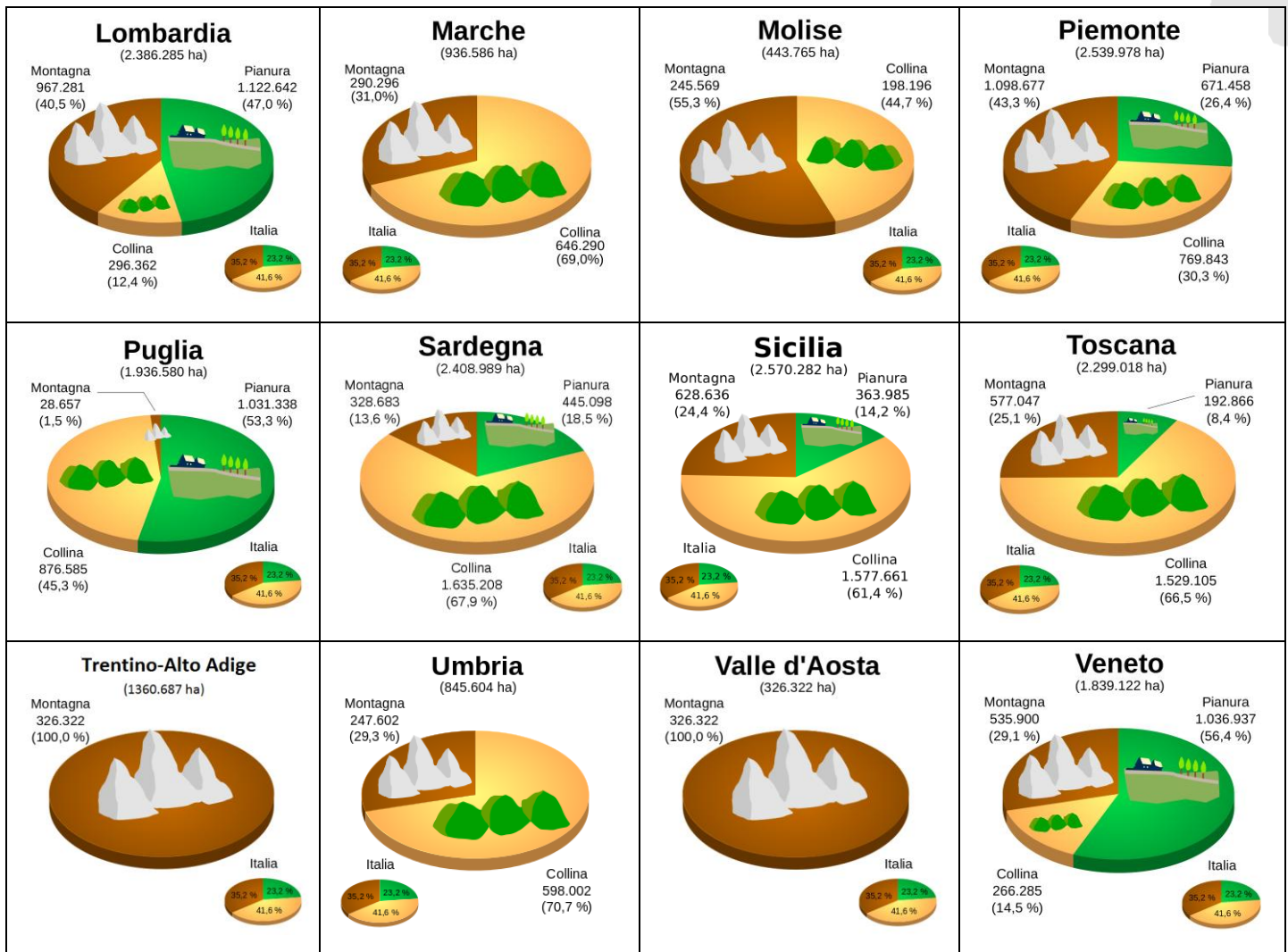
Giallo .....



# Riflessione linguistica

Approfondimento linguistico-geografico

© Studio Arcobaleno Multimedia - Anno 2016



Questa Regione è più montuosa di .....

e meno montuosa di .....

Ci sono più colline che in .....

e meno colline che in .....

Le sue pianure sono più vaste di quelle di .....

e meno vaste di quelle di .....

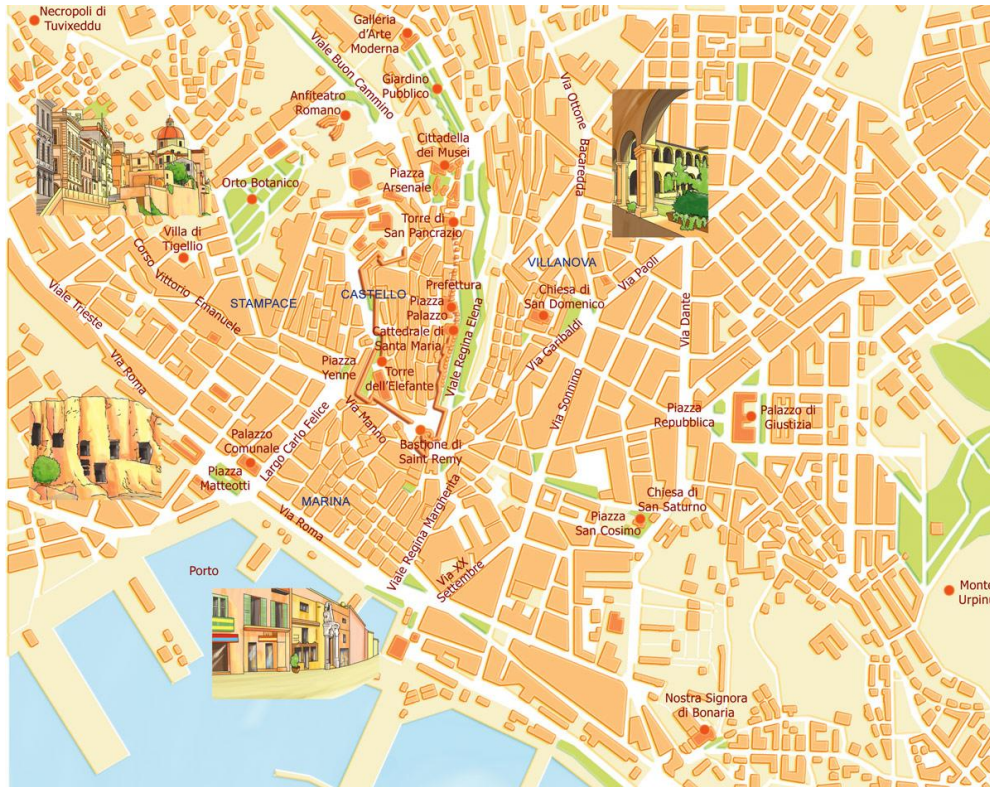
# Riflessione linguistica

Approfondimento linguistico-geografico

© Studio Arcobaleno Multimedia - Anno 2016



## UNO SGUARDO ALLA CITTÀ



Questa è la mappa di una zona di Cagliari che hai già visto negli itinerari di viaggio proposti da Everywhereinitalia. Scegli due tra i monumenti o le chiese o gli edifici che vedi disegnati e che desideri visitare. Collegati alle mappe di Google per poter verificare il percorso che devi fare a piedi partendo da uno dei due punti che hai scelto. Scrivi l'itinerario qui di seguito indicando anche i tempi di percorrenza necessari.

.....

.....

.....

.....

.....

.....

.....

.....

.....

.....



# Riflessione linguistica

Approfondimento linguistico-geografico

© Studio Arcobaleno Multimedia - Anno 2016



## Per comprendere l'economia e il paesaggio della Regione

### Un futuro dal cuore antico

Oggi l'economia della regione è particolarmente legata al turismo: la Sardegna è infatti tra le regioni più belle dal punto di vista naturalistico. Alla Sardegna appartiene un quarto di tutte le coste d'Italia, con paesaggi straordinari, spiagge attrezzate per i turisti o ancora di intatta e solitaria bellezza. Per moltissimo tempo l'economia sarda è stata legata alla pastorizia e ancora oggi l'allevamento delle pecore e delle capre è largamente praticato; dal latte prodotto si ottengono ottimi formaggi, tra cui il noto pecorino sardo.

La pesca, anche se importante, rimane tuttavia un'attività secondaria.

L'agricoltura, ostacolata dal suolo poco fertile e povero d'acqua, è di tipo tradizionale, ma nelle pianure costiere si trovano colture specializzate come vite, riso e ortaggi. La costruzione di centrali termoelettriche ha permesso l'avvio dell'industria chimica e petrolchimica, metallurgica e della raffinazione del petrolio.

L'estrazione mineraria, un tempo risorsa importante per la ricchezza del sottosuolo sardo, è oggi molto ridotta; gli antichi impianti minerari, inseriti in un Parco geominerario, sono importanti testimonianze archeologiche e fonte di interesse per il turismo.

Di notevole importanza è l'artigianato artistico. Le sue origini risalgono alla Preistoria: pare che i vasi in sughero fossero già prodotti prima del Neolitico; le maschere di legno, ancora indossate nei festeggiamenti dei più noti carnevali sardi, appartengono all'età nuragica.

La scivedda, caratteristico contenitore in terracotta, appartiene al periodo romano; di epoca bizantina è invece l'arte dei ricami e dei gioielli.

**Trasforma il testo che hai letto in una intervista. Tu dovrai rispondere al giornalista che chiede informazioni sul paesaggio sardo.**

Una delle fonti maggiori di reddito di questa Regione è il turismo. Come mai?

.....

Come si presenta la Regione agli occhi del visitatore?

.....

# Riflessione linguistica

Approfondimento linguistico-geografico

© Studio Arcobaleno Multimedia - Anno 2016



Nel passato di che cosa si occupava soprattutto?

.....

Alcune produzioni di formaggio sono molto conosciute in tutta Italia. Quali ad esempio?

.....

Perché l'agricoltura in Sardegna non è particolarmente fiorente? In quali zone è specializzata?

.....

La costruzione di centrali termoelettriche che cosa ha determinato?

.....

Le antiche miniere sono ancora in uso?

.....

Il sughero e il legno sono i materiali particolarmente utilizzati per le produzioni artigianali. Che cosa viene ancora realizzato?

.....

Quali origini hanno alcuni degli oggetti tipici dell'artigianato sardo?

.....

**Ora fai tu una domanda e cerca di darti la risposta.**

D: .....

R: .....

**In conclusione...**

Qual è la tua valutazione complessiva sull'economia di questa Regione?

.....

Quale attività vorresti svolgere? Perché?

.....

Dove vorresti abitare e perché?

.....

Che cosa suggeriresti a un turista di vedere?

.....

Quale prodotto artigianale vorresti acquistare per ricordo della tua visita in questa Regione?

.....

# Riflessione linguistica

Approfondimento linguistico-geografico

© Studio Arcobaleno Multimedia - Anno 2016



## SARDEGNA

### Isola dei tesori

Seconda isola d'Italia per dimensioni, la Sardegna è distesa nel cuore del Mediterraneo (1), assai più vicina alla Corsica (2) che alla penisola italiana.

Il mare cristallino (3), le coste spettacolari (4), i paesaggi suggestivi (5), le inconfondibili rocce scolpite dal vento (6), le numerose tracce di antiche civiltà (7)... sono tutti tasselli di una magica, misteriosa "diversità". Così le montagne (8) senza tempo, le foreste ricche di fauna (9) e di vegetazione (10) rare le placide pianure (11), le lagune suggestive (12), le oasi naturalistiche (13) contribuiscono a formare un unico e immenso patrimonio di straordinario valore ambientale.

**Abbina le foto alle frasi che descrivono la Regione.**



Mare cristallino (.....)



Paesaggi suggestivi (.....)




Coste spettacolari (.....)



Mar Mediterraneo (.....)



La Corsica (.....)



Rocce scolpite dal vento (.....)

# Riflessione linguistica

Approfondimento linguistico-geografico

© Studio Arcobaleno Multimedia - Anno 2016



Pianura in Sardegna (.....)



Fauna della Sardegna (.....)



Antiche civiltà nuragiche (.....)



Montagne senza tempo (.....)



Ricca vegetazione (.....)



Laguna di Mistras (.....)



Oasi in Sardegna (.....)

# Riflessione linguistica

Approfondimento linguistico-geografico

© Studio Arcobaleno Multimedia - Anno 2016



Segna se le seguenti affermazioni sono vere (V) o false (F).

La Sardegna è l'isola più grande d'Italia	V	F
La Sardegna si trova nel cuore del Mar Mediterraneo	V	F
La Sardegna si trova più vicino alla Corsica rispetto alla penisola italiana	V	F
Le foreste sarde sono ricche di fauna	V	F

Ricerca il significato corretto di queste parole.

Cristallino: .....

placide: .....

patrimonio: .....

Scrivi in breve le caratteristiche della regione Sardegna.

.....

.....

.....

.....

Rileggi la descrizione del territorio della Sardegna e svolgi le seguenti attività.

## Una straordinaria diversità

Essere isola vuol dire essere qualcosa di diverso, di "esclusivo", e la Sardegna è davvero particolare. Le caratteristiche del territorio, e con essa la storia, hanno lavorato a distinguere nell'isola zone ben caratterizzate, con cultura, economia, tradizioni proprie. Verso l'interno, il paesaggio è segnato da altopiani e da un **rilievo spezzettato** che non forma catene di monti, ma "isole" di **massicci solitari** sparsi qua e là.

Nella zona centro-orientale sorge il massiccio del Gennargentu; nella parte meridionale ci sono i Monti dell'Iglesiente e del Sulcis, con le antiche miniere di piombo e di zinco. Diverse anche le **coste: rocciose** nella parte settentrionale e orientale, diventano **basse, sabbiose** e in parte paludose nella zona occidentale e meridionale. Il più grande golfo è quello di Oristano, dove termina il suo corso il Tirso, il fiume più importante dell'isola.

Diversa è la vegetazione: dalle **praterie costiere** alla caratteristica "gariga", che precede la macchia mediterranea e da questa ai boschi dell'interno. Tipica la fauna, che comprende i mufloni, i grifoni, i cavallini della Giara di Gesturi, il cervo, l'asino bianco dell'Asinara, tutte specie inesistenti o raramente presenti nel resto dell'Italia. Mancano invece animali comuni in tutte le altre regioni come la vipera e la talpa.

# Riflessione linguistica

Approfondimento linguistico-geografico

© Studio Arcobaleno Multimedia - Anno 2016



**Spiega il significato delle espressioni evidenziate in giallo.**

- Rilievo spezzettato: .....
- massicci solitari: .....
- coste rocciose: .....
- coste basse e sabbiose: .....
- praterie costiere: .....

**Nel testo sono citati alcuni nomi di animali che vedi sottolineati.**

Sono animali tipici della regione Sardegna, inesistenti o raramente presenti nel resto dell'Italia. Li conosci? Cerca le foto per identificarli e scrivi il loro nome in inglese.

ITALIANO

INGLESE

- Muflone .....
- Grifone .....
- Cavallino della Giara di Gesturi .....
- Cervo .....
- Asino bianco .....