

# Riflessione linguistica

Approfondimento linguistico-geografico

© Studio Arcobaleno Multimedia - Anno 2016



## La posizione in Italia e il nome della Regione



**Piemonte**

**Dove si trova questa Regione?**

- A Nord
- Nel Centro
- A Sud

**Con quali Regioni confina?**

.....  
.....  
.....

**Qual è l'origine del suo nome?**

.....  
.....  
.....  
.....

# Riflessione linguistica

Approfondimento linguistico-geografico

© Studio Arcobaleno Multimedia - Anno 2016



Qual è il suo stemma?



Qual è il suo capoluogo di Regione?

.....

# Riflessione linguistica

Approfondimento linguistico-geografico

© Studio Arcobaleno Multimedia - Anno 2016



## La carta politica della Regione

Scrivi il nome di tutte le città più importanti della Regione, nella loro posizione.

The map shows the Piedmont region (Regione Piemonte) in Italy, with major cities and geographical features labeled. Seven empty boxes are provided for labeling the most important cities in their respective positions:

- Box 1 (top left): ..... (points to the northern mountainous area)
- Box 2 (top right): ..... (points to Domodossola)
- Box 3 (middle right): ..... (points to Verbania)
- Box 4 (middle right): ..... (points to Biella)
- Box 5 (middle right): ..... (points to Novara)
- Box 6 (bottom right): ..... (points to Torino)
- Box 7 (bottom right): ..... (points to Cuneo)








# Riflessione linguistica

Approfondimento linguistico-geografico

© Studio Arcobaleno Multimedia - Anno 2016



Riconosci le città da uno dei monumenti più importanti che la rappresenta.



Conosci altri paesi di questa Regione? Se sì, quali?

.....  
.....  
.....

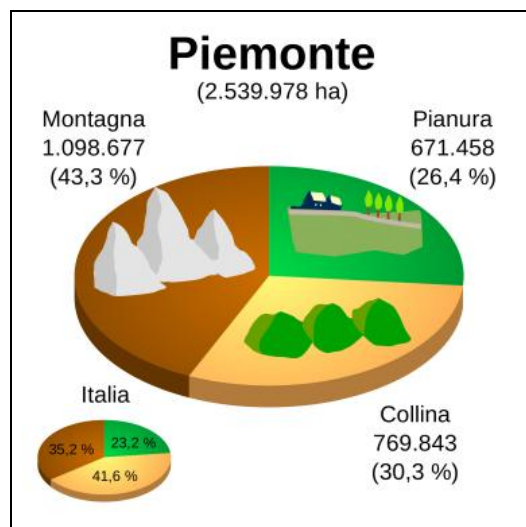
# Riflessione linguistica

Approfondimento linguistico-geografico

© Studio Arcobaleno Multimedia - Anno 2016



## Letture della carta fisica della Regione



Osserva la carta geografica e il grafico.

Individua le zone di montagna, di collina e di pianura.

Leggi il nome di paesi o di città che si trovano in zone di:

MONTAGNA .....

COLLINA .....

PIANURA .....

Quale area è più vasta?

.....

Questa Regione è bagnata dal mare?

.....

Vedi fiumi o laghi nel suo territorio? Se sì, quali?

.....

# Riflessione linguistica

Approfondimento linguistico-geografico

© Studio Arcobaleno Multimedia - Anno 2016



Nelle carte geografiche il territorio, come hai visto, è caratterizzato dai colori simbolici.

Che cosa rappresentano questi colori?

Marrone scuro .....

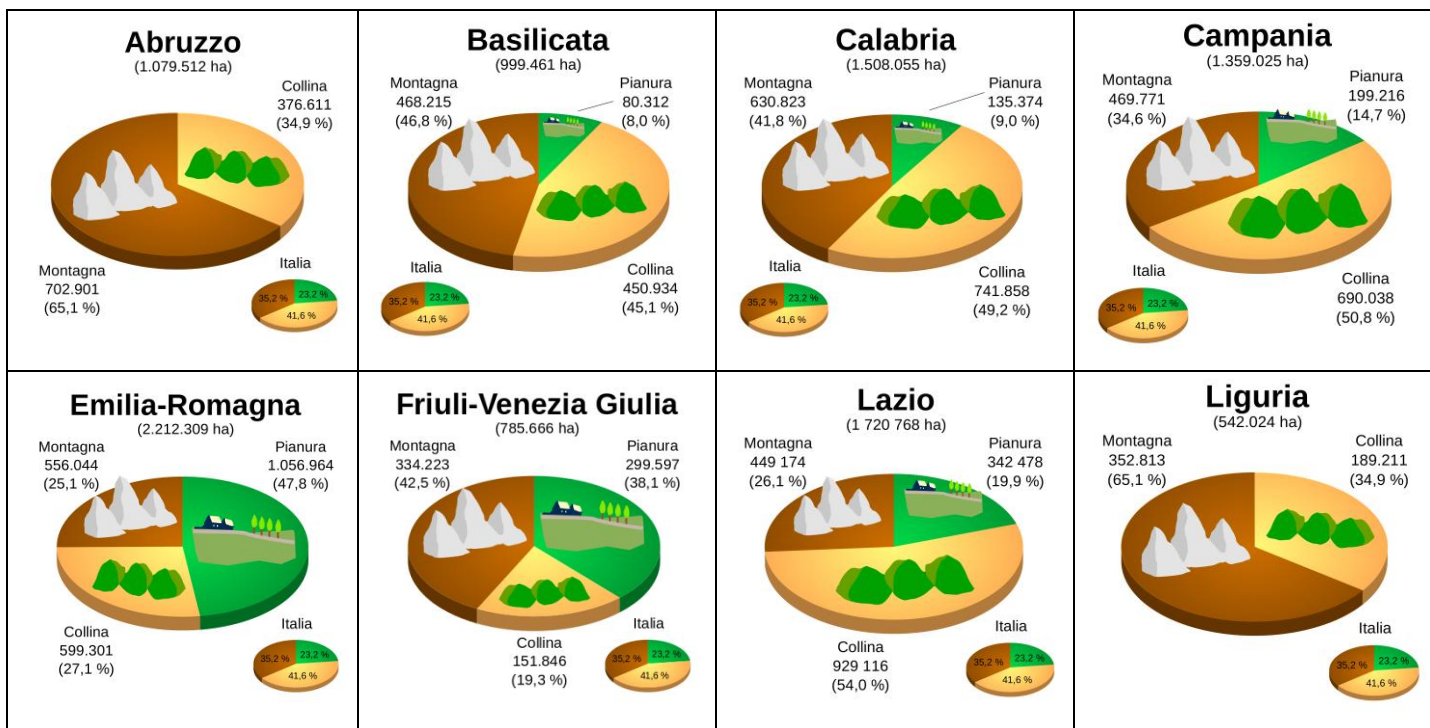
Marrone chiaro .....

Azzurro scuro .....

Azzurro chiaro .....

Verde .....

Giallo .....

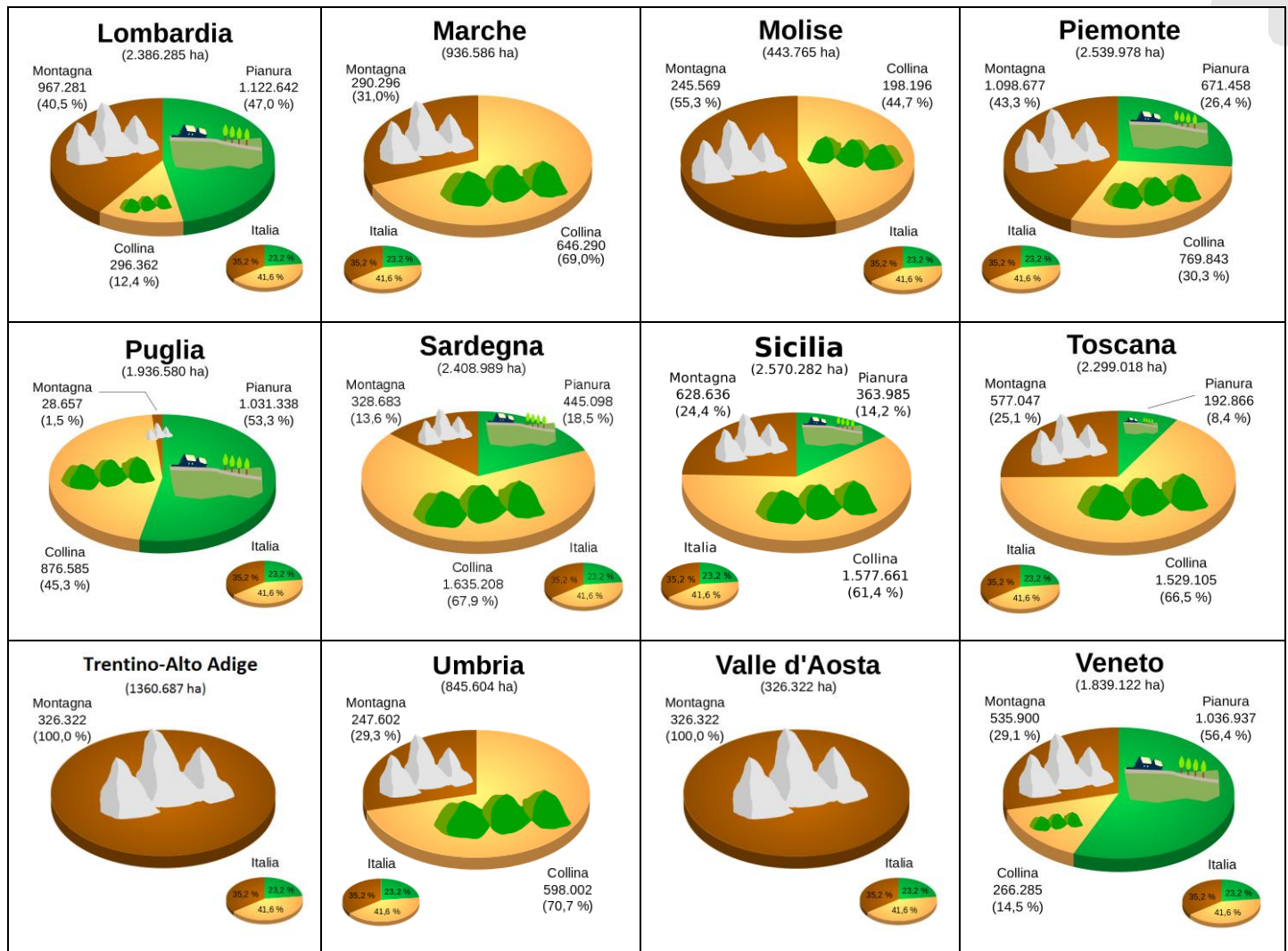




# Riflessione linguistica

Approfondimento linguistico-geografico

© Studio Arcobaleno Multimedia - Anno 2016



Questa Regione è più montuosa di .....

e meno montuosa di .....

Ci sono più colline che in .....

e meno colline che in .....

Le sue pianure sono più vaste di quelle di .....

e meno vaste di quelle di .....

# Riflessione linguistica

Approfondimento linguistico-geografico

© Studio Arcobaleno Multimedia - Anno 2016



## UNO SGUARDO ALLA CITTÀ



Questa è la mappa di una zona di Torino che hai già visto negli itinerari di viaggio proposti da Everywhereinitalia. Scegli due tra i monumenti o le chiese o gli edifici che vedi disegnati e che desideri visitare. Collegati alle mappe di Google per poter verificare il percorso che devi fare a piedi partendo da uno dei due punti che hai scelto. Scrivi l'itinerario qui di seguito indicando anche i tempi di percorrenza necessari.

---

---

---

---

---

---

---

---

---

---

---



# Riflessione linguistica

Approfondimento linguistico-geografico

© Studio Arcobaleno Multimedia - Anno 2016



## Per comprendere l'economia e il paesaggio della Regione

### Un paesaggio disegnato dall'uomo

Il Piemonte con i suoi 169 abitanti per chilometro quadrato non è una regione intensamente abitata. Le caratteristiche del territorio hanno fatto concentrare la popolazione in poche zone, soprattutto intorno a Torino, dove si è sviluppata una grande area metropolitana.

Per secoli i Piemontesi hanno modificato il paesaggio naturale adattandolo ai loro bisogni. Hanno costruito ponti, strade, gallerie attraverso le montagne; hanno catturato l'energia dell'acqua per far funzionare le loro macchine; hanno scavato canali per collegare i fiumi o prosciugare le paludi, in modo da avere terre coltivabili.

Il loro lavoro ha trasformato profondamente la regione, ma non ne ha distrutto la bellezza; anzi, al fascino dell'ambiente selvaggio e incontaminato delle vette alpine si è aggiunto quello di un paesaggio disegnato con sapienza nella pianura e sulle colline.

Oggi il Piemonte è tra le regioni più produttive del Paese. Oltre all'industria automobilistica, ci sono molte imprese impegnate in attività d'avanguardia (telecomunicazioni, informatica) o tradizionali (tessile, alimentare).

L'agricoltura, molto diffusa, è specializzata nella produzione di vino, riso e frutta.

**Trasforma il testo che hai letto in una intervista. Tu dovrai rispondere al giornalista che chiede informazioni sul paesaggio piemontese.**

Come è distribuita la popolazione sul territorio piemontese?

.....

Ci sono delle zone metropolitane?

.....

Come sono intervenuti gli abitanti sul loro territorio per poterne sfruttare tutte le potenzialità?

.....

Che cosa hanno costruito e come hanno modificato il paesaggio della Regione?

.....

Quali coltivazioni sono particolarmente ricche e in che zona della Regione?

.....

Le industrie di che cosa si occupano soprattutto?

.....

# Riflessione linguistica

Approfondimento linguistico-geografico

© Studio Arcobaleno Multimedia - Anno 2016



L'ambiente naturale e quello artificiale realizzato dall'uomo come hanno potuto integrarsi?

.....

**Ora fai tu una domanda e cerca di darti la risposta.**

D: .....

R: .....

**In conclusione...**

Qual è la tua valutazione complessiva sull'economia di questa Regione?

.....

Quale attività vorresti svolgere? Perché?

.....

Dove vorresti abitare e perché?

.....

Che cosa suggeriresti a un turista di vedere?

.....

Quale prodotto artigianale vorresti acquistare per ricordo della tua visita in questa Regione?

.....

# Riflessione linguistica

Approfondimento linguistico-geografico

© Studio Arcobaleno Multimedia - Anno 2016



## PIEMONTE

### All'ombra delle montagne

Il Piemonte è una regione che offre una varietà incredibile di paesaggi.

La pianura ricca di acque (1), le verdi colline coperte di vigneti (2), le città ricche di splendidi monumenti (3) ti riempiono gli occhi di immagini indimenticabili.

Ma c'è una cosa che ti colpisce in particolare: dovunque tu guardi, all'orizzonte si levano imponenti le montagne (4).


**Abbina le foto alle frasi che descrivono la Regione.**



Colline ricche di vigneti (.....)



Pianura ricca di acqua (.....)



Le bellissime montagne del Piemonte (.....)



Città ricca di monumenti (.....)



# Riflessione linguistica

Approfondimento linguistico-geografico

© Studio Arcobaleno Multimedia - Anno 2016



Segna se le seguenti affermazioni sono vere (V) o false (F).

Il Piemonte offre poca varietà di paesaggi	V	F
La pianura del Piemonte è povera d'acqua	V	F
In collina ci sono molti vigneti	V	F
Dovunque tu guardi, all'orizzonte si vedono le montagne	V	F

Ricerca il significato corretto di queste parole.

Vigneti: .....

orizzonte: .....

imponenti: .....

Scrivi in breve le caratteristiche della regione Piemonte.

.....

.....

.....

.....

.....

Rileggi la descrizione del territorio del Piemonte e svolgi le seguenti attività.

## Che cosa c'è "al piede dei monti"?

Le Alpi sono sempre presenti, **ben visibili** fin dalla pianura, soprattutto nella parte settentrionale del Piemonte. Dalle Alpi scendono numerosi fiumi, portando le loro acque al Po, che scorre quasi al centro della regione: da Nord la Dora Baltea, la Dora Riparia, la Stura, il Sesia, il Ticino; da Sud il Maira, il Tanaro, la Bormida. Nei **solchi scavati dai ghiacciai** alpini si sono formati i Laghi d'Orta e Maggiore e i numerosi **laghetti che punteggiano le montagne**. Dalle Alpi i fiumi hanno trascinato a valle per milioni di anni pietre e sabbia, riempiendo il mare sottostante e dando origine a una pianura bassa e ricca di acque. Tra la pianura e la montagna, a Sud, una vasta fascia di colline scende fino alle Alpi Marittime: il Monferrato, le Langhe e le Colline di Asti. A Nord, poste ad arco allo sbocco delle grandi valli alpine, troviamo invece le **colline moreniche** (Rivoli, Canavese, Serra d'Ivrea) che ricordano il punto di massima estensione dei **ghiacciai preistorici**.

# Riflessione linguistica

Approfondimento linguistico-geografico

© Studio Arcobaleno Multimedia - Anno 2016



## Spiega il significato delle espressioni evidenziate in giallo.

- Ben visibili: .....
- solchi scavati di ghiacciai: .....
- laghetti che punteggiano le montagne: .....
- colline moreniche: .....
- ghiacciai preistorici: .....

## Nel testo sottolineato si parla dei fiumi e dei laghi del Piemonte.

Con la cartina geografica del Piemonte, ordinali nell'elenco: comincia da quello più a Nord fino a quello più a sud della regione.

### FIUMI

.....  
.....  
.....  
.....  
.....  
.....  
.....  
.....  
.....  
.....

### LAGHI

.....  
.....  
.....  
.....  
.....  
.....  
.....  
.....  
.....  
.....