

# Riflessione linguistica

Approfondimento linguistico-geografico

© Studio Arcobaleno Multimedia - Anno 2016



## La posizione in Italia e il nome della Regione



**Liguria**

**Dove si trova questa Regione?**

- A Nord
- Nel Centro
- A Sud

**Con quali Regioni confina?**

.....  
.....  
.....

**Qual è l'origine del suo nome?**

.....  
.....  
.....  
.....

# Riflessione linguistica

Approfondimento linguistico-geografico

© Studio Arcobaleno Multimedia - Anno 2016



Qual è il suo stemma?



Qual è il suo capoluogo di Regione?

.....

# Riflessione linguistica

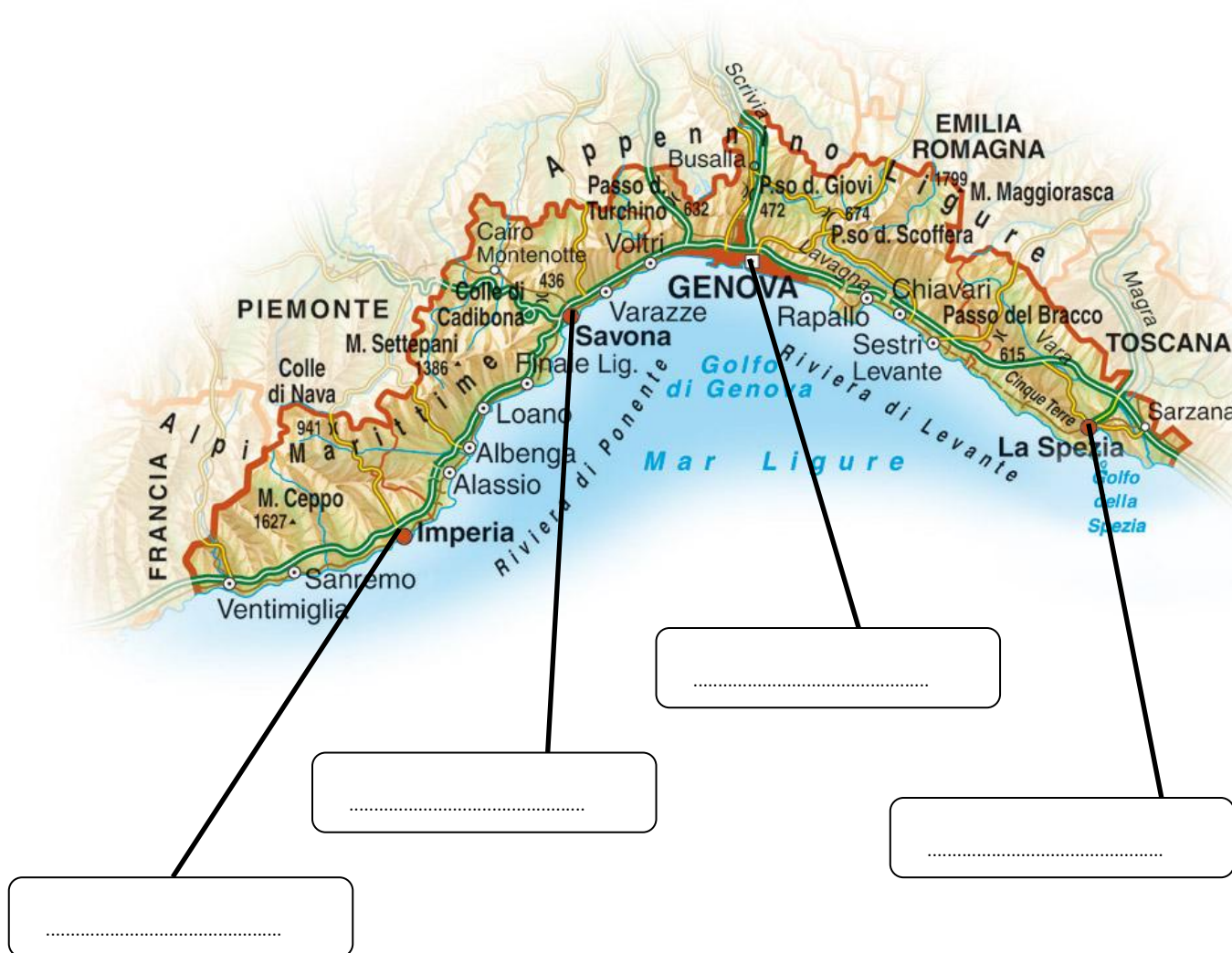
Approfondimento linguistico-geografico

© Studio Arcobaleno Multimedia - Anno 2016



## La carta politica della Regione

Scrivi il nome di tutte le città più importanti della Regione, nella loro posizione.




# Riflessione linguistica

Approfondimento linguistico-geografico

© Studio Arcobaleno Multimedia - Anno 2016



Riconosci le città da uno dei monumenti più importanti che la rappresenta.



.....



.....



.....



.....

Conosci altri paesi di questa Regione? Se sì, quali?

.....  
.....  
.....

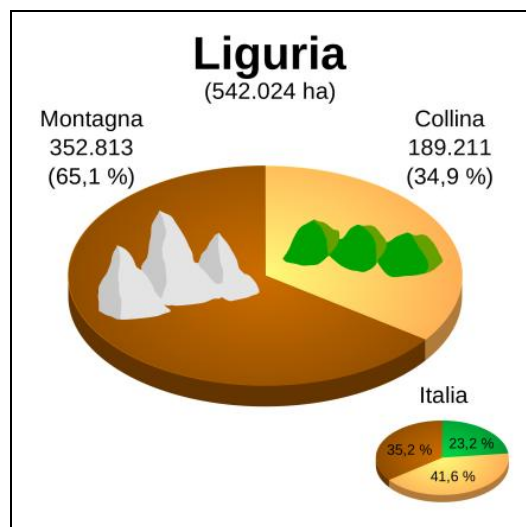
# Riflessione linguistica

Approfondimento linguistico-geografico

© Studio Arcobaleno Multimedia - Anno 2016



## Letture della carta fisica della Regione



Osserva la carta geografica e il grafico.

Individua le zone di montagna, di collina e di pianura.

Leggi il nome di paesi o di città che si trovano in zone di:

MONTAGNA .....

COLLINA .....

PIANURA .....

Quale area è più vasta?

.....

Questa Regione è bagnata dal mare?

.....

Vedi fiumi o laghi nel suo territorio? Se sì, quali?

.....

# Riflessione linguistica

Approfondimento linguistico-geografico

© Studio Arcobaleno Multimedia - Anno 2016



Nelle carte geografiche il territorio, come hai visto, è caratterizzato dai colori simbolici.

Che cosa rappresentano questi colori?

Marrone scuro .....

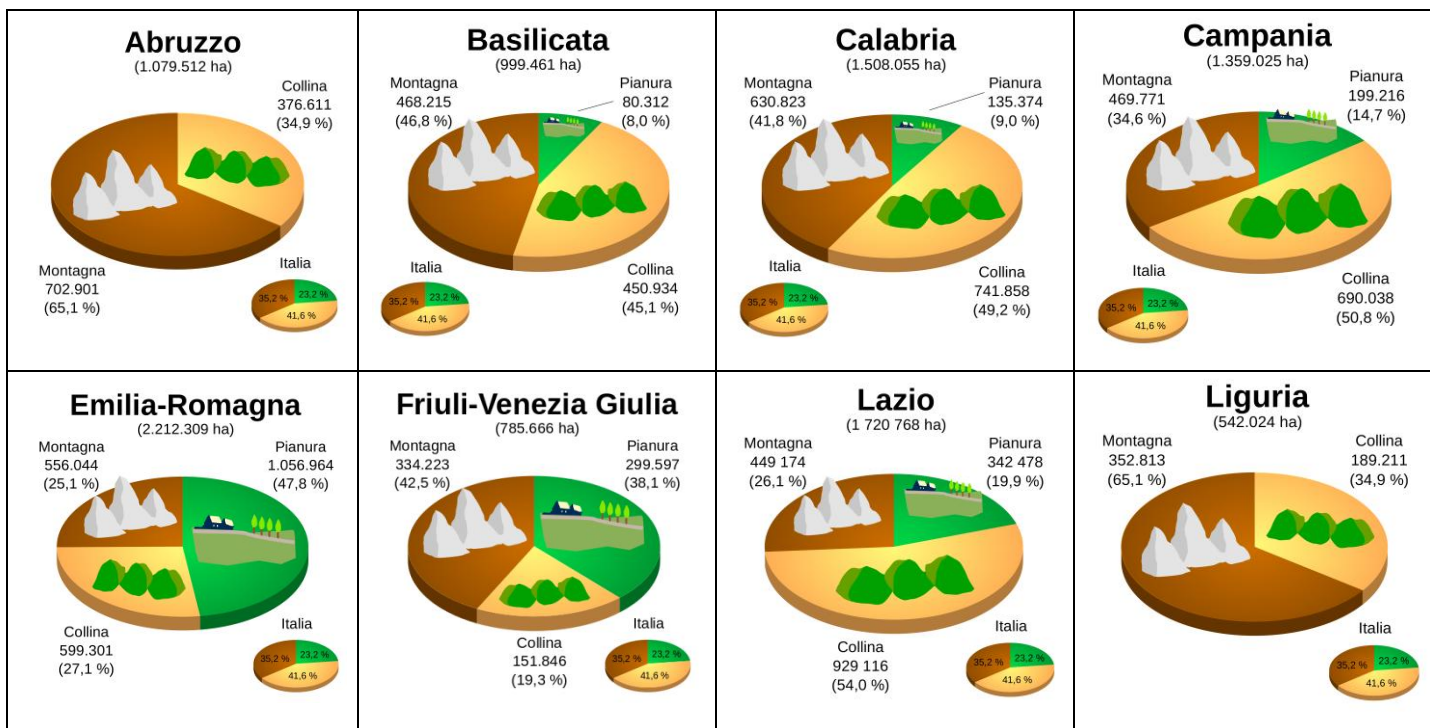
Marrone chiaro .....

Azzurro scuro .....

Azzurro chiaro .....

Verde .....

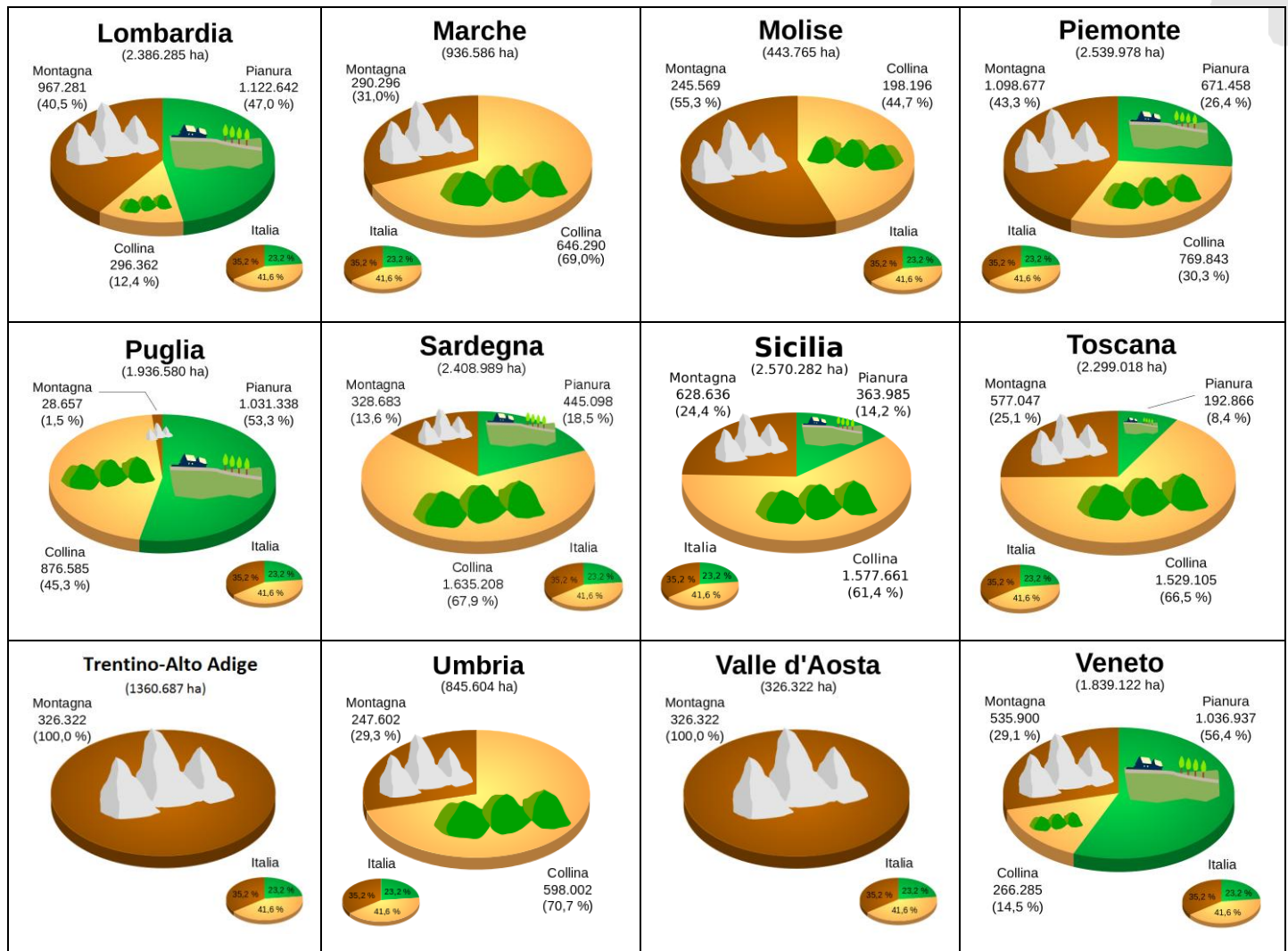
Giallo .....



# Riflessione linguistica

Approfondimento linguistico-geografico

© Studio Arcobaleno Multimedia - Anno 2016



Questa Regione è più montuosa di .....

e meno montuosa di .....

Ci sono più colline che in .....

e meno colline che in .....

Le sue pianure sono più vaste di quelle di .....

e meno vaste di quelle di .....

# Riflessione linguistica

Approfondimento linguistico-geografico

© Studio Arcobaleno Multimedia - Anno 2016



## UNO SGUARDO ALLA CITTÀ



Questa è la mappa di una zona di Genova che hai già visto negli itinerari di viaggio proposti da Everywhereinitalia. Scegli due tra i monumenti o le chiese o gli edifici che vedi disegnati e che desideri visitare. Collegati alle mappe di Google per poter verificare il percorso che devi fare a piedi partendo da uno dei due punti che hai scelto. Scrivi l'itinerario qui di seguito indicando anche i tempi di percorrenza necessari.

.....

.....

.....

.....

.....

.....

.....

.....

.....

.....



# Riflessione linguistica

Approfondimento linguistico-geografico

© Studio Arcobaleno Multimedia - Anno 2016



## Per comprendere l'economia e il paesaggio della Regione

### Dal mare e dalla terra

La ricchezza dei Liguri viene dal mare e dalla terra. Al mare sono legate attività tradizionali come la costruzione di navi e il commercio marittimo. Certo, Genova non è più il porto principale del Mediterraneo, ma nella città sono rimaste le grandi società di armatori che gestiscono il trasporto via mare di merci e passeggeri.

Oggi, però, è il turismo a offrire il maggior numero di posti di lavoro; la Riviera ligure infatti richiama visitatori in tutti i periodi dell'anno. Perfino una città dalla grande tradizione industriale come Genova negli ultimi decenni ha puntato sulla valorizzazione del suo patrimonio storico-artistico e sulle attrazioni come l'Acquario o le grandi manifestazioni fieristiche.

Alla terra è legata un'agricoltura specializzata che dispone di pochissimo spazio per le colture. Nelle serre della Riviera di Ponente, da Sanremo ad Albenga, in ogni stagione dell'anno si coltivano fiori e primizie ortofrutticole, che vengono esportati in tutto il mondo. Sulle colline, invece, sono presenti le tipiche colture mediterranee della vite e dell'olivo, che producono in quantità limitata vino e olio di qualità eccellente. Della grande tradizione industriale ligure è rimasta attiva la parte collegata alla raffinazione del petrolio.

**Trasforma il testo che hai letto in una intervista. Tu dovrai rispondere al giornalista che chiede informazioni sul paesaggio ligure.**

A che cosa è legata l'economia della Regione?

.....

Quali sono le attività tradizionali della Liguria che l'hanno resa famosa nel mondo?

.....

Da chi viene gestito il trasporto via mare di merci e persone?

.....

Che posto occupa il turismo nell'economia della Regione?

.....

# Riflessione linguistica

Approfondimento linguistico-geografico

© Studio Arcobaleno Multimedia - Anno 2016



Che cosa ha realizzato Genova per favorire il turismo?

.....

La Liguria è famosa per la coltivazione di fiori e frutta. Dove soprattutto si svolgono queste attività?

.....

Che cosa si coltiva nelle colline?

.....

A che cosa è legata l'attività industriale di questa Regione?

.....

**Ora fai tu una domanda e cerca di darti la risposta.**

D: .....

R: .....

**In conclusione...**

Qual è la tua valutazione complessiva sull'economia di questa Regione?

.....

Quale attività vorresti svolgere? Perché?

.....

Dove vorresti abitare e perché?

.....

Che cosa suggeriresti a un turista di vedere?

.....

Quale prodotto artigianale vorresti acquistare per ricordo della tua visita in questa Regione?

.....

# Riflessione linguistica

Approfondimento linguistico-geografico

© Studio Arcobaleno Multimedia - Anno 2016



## LIGURIA

### Terra di contrasti

Il viaggiatore che percorre la strada costiera è affascinato dall'incredibile varietà dei paesaggi racchiusi in questa piccola striscia di terra. Si alternano borghi arroccati sulle colline (1) e città moderne (2); scogliere a picco sul mare (3) e spiagge affollate di turisti (4); torri di antiche fortezze (5) e ciminiere di enormi fabbriche (6). Se, poi, si allontana dalla costa e si avventura verso l'interno, seguendo una delle tante valli scavate da impetuosi torrenti (7), scopre verdi boschi (8) e paesi antichi (9) dove il tempo sembra essersi fermato.

Abbina le foto alle frasi che descrivono la Regione.



Raffineria del porto di Genova (.....)



Castello in provincia di Savona (.....)



Regione turistica (.....)



Borgo della Liguria (.....)



Scogliere a picco sul mare (.....)

# Riflessione linguistica

*Approfondimento linguistico-geografico*

© Studio Arcobaleno Multimedia - Anno 2016



Genova, aspetti di città moderna (.....)



Ricca vegetazione boschiva (.....)



Antichi paesi arroccati sulle colline (.....)



Torrenti liguri (.....)

# Riflessione linguistica

Approfondimento linguistico-geografico

© Studio Arcobaleno Multimedia - Anno 2016



Segna se le seguenti affermazioni sono vere (V) o false (F).

La Liguria racchiude un'incredibile varietà di paesaggi	V	F
In Liguria non ci sono fabbriche	V	F
In Liguria si alternano città moderne ad antichi borghi	V	F
In questa regione non sono presenti i boschi	V	F

Ricerca il significato corretto di queste parole.

Arroccati: .....

ciminiere: .....

impetuosi: .....

Scrivi in breve le caratteristiche della regione Liguria.

.....

.....

.....

.....

.....

# Riflessione linguistica

Approfondimento linguistico-geografico

© Studio Arcobaleno Multimedia - Anno 2016



Rileggi la descrizione del territorio della Liguria e svolgi le seguenti attività.

## Da Levante a Ponente

Le Alpi e gli Appennini formano un lungo **arco di montagne**, ai cui piedi c'è una sottile **fascia costiera** chiamata "riviera". Genova divide questo arco in due parti: a Est la Riviera di Levante (perché a Est si leva il sole) e a Ovest la Riviera di Ponente (perché a Ovest cala il sole).

Nella Riviera di Ponente, dove la fascia costiera è un po' più ampia e meno frastagliata, ci sono alcune belle spiagge. Le montagne, incise da profonde valli in cui scorrono numerosi torrenti, si abbassano man mano che ci si sposta verso Est e diventano più facili da superare grazie a numerosi valichi, come il Passo del Turchino o quello dei Giovi. Il mare e la montagna, così vicini l'uno all'altra, creano una **situazione climatica** particolare, soprattutto sulla costa, con temperature sopra gli 0°C anche in inverno ed **estati piacevolmente ventilate**.

Per questo sulla costa, a fianco della tipica macchia mediterranea, crescono bene **piante tropicali**, come le agavi, le palme e i fichi d'India. Sulle colline, fino a 600 metri, cresce l'olivo e sui fianchi delle montagne interne bellissimi boschi di castagni e di faggi.

**Spiega il significato delle espressioni evidenziate in giallo.**

- Arco di montagne: .....
- fascia costiera: .....
- situazione climatica: .....
- estati piacevolmente ventilate: .....
- piante tropicali: .....

**Nel testo viene nominata la Macchia Mediterranea, come vedi sottolineato.**

Fai una ricerca per individuare qual è la tipica vegetazione che prende il nome di "Macchia Mediterranea" e poi traduci i nomi in inglese.

ITALIANO	INGLESE
.....	.....
.....	.....
.....	.....
.....	.....
.....	.....