

Riflessione linguistica

Approfondimento linguistico-geografico

© Studio Arcobaleno Multimedia - Anno 2016



La posizione in Italia e il nome della Regione



Lazio

Dove si trova questa Regione?

- A Nord
- Nel Centro
- A Sud

Con quali Regioni confina?

.....
.....
.....

Qual è l'origine del suo nome?

.....
.....
.....
.....


Riflessione linguistica

Approfondimento linguistico-geografico

© Studio Arcobaleno Multimedia - Anno 2016



Qual è il suo stemma?



Qual è il suo capoluogo di Regione?

.....

Riflessione linguistica

Approfondimento linguistico-geografico

© Studio Arcobaleno Multimedia - Anno 2016



La carta politica della Regione

Scrivi il nome di tutte le città più importanti della Regione, nella loro posizione.



Riflessione linguistica

Approfondimento linguistico-geografico

© Studio Arcobaleno Multimedia - Anno 2016



Riconosci le città da uno dei monumenti più importanti che la rappresenta.



.....



.....



.....



.....

Quale provincia manca?

Conosci altri paesi di questa Regione? Se sì, quali?

.....
.....
.....

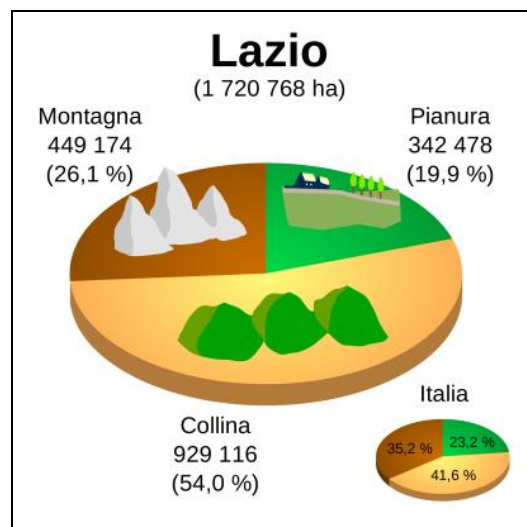
Riflessione linguistica

Approfondimento linguistico-geografico

© Studio Arcobaleno Multimedia - Anno 2016



Letture della carta fisica della Regione



Individua le zone di montagna, di collina e di pianura.

Leggi il nome di paesi o di città che si trovano in zone di:

MONTAGNA

COLLINA

PIANURA

Quale area è più vasta?

.....

Questa Regione è bagnata dal mare?

.....

Vedi fiumi o laghi nel suo territorio? Se sì, quali?

.....

Riflessione linguistica

Approfondimento linguistico-geografico

© Studio Arcobaleno Multimedia - Anno 2016



Nelle carte geografiche il territorio, come hai visto, è caratterizzato dai colori simbolici.

Che cosa rappresentano questi colori?

Marrone scuro

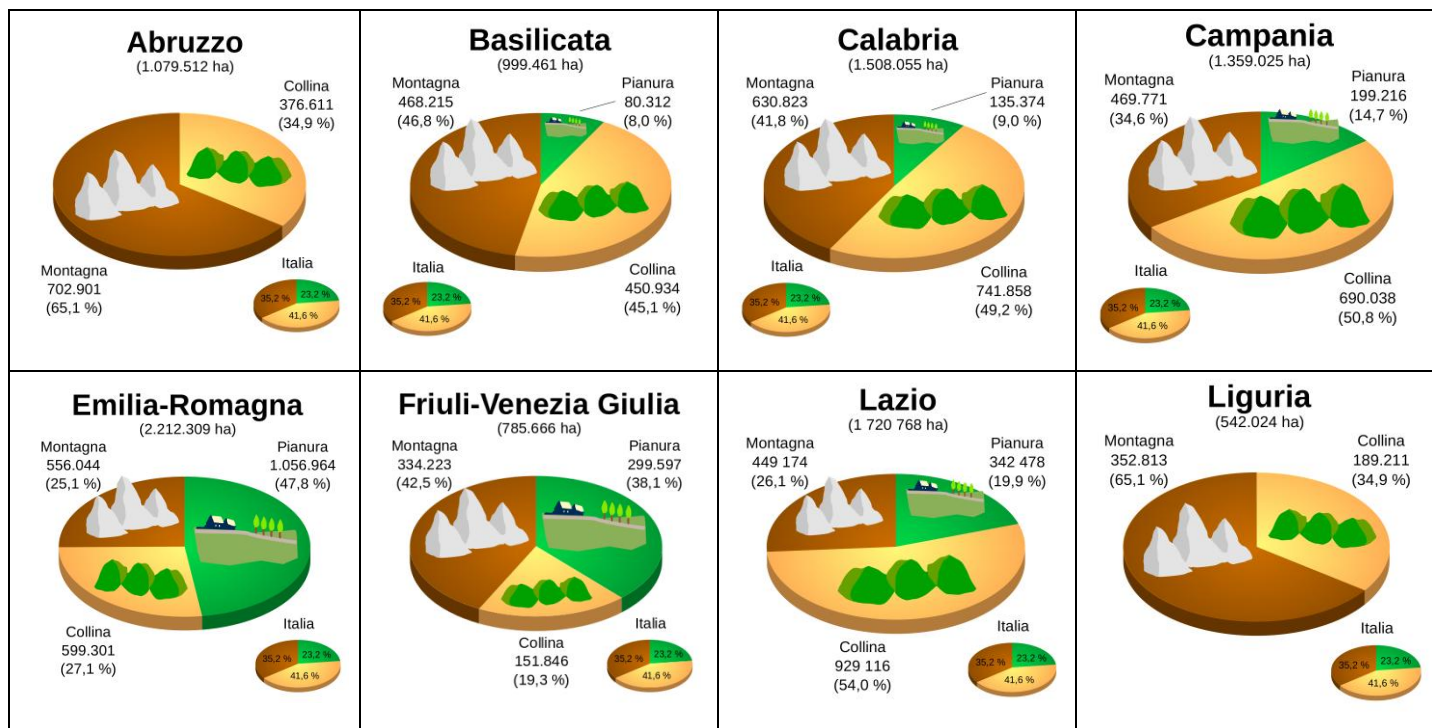
Marrone chiaro

Azzurro scuro

Azzurro chiaro

Verde

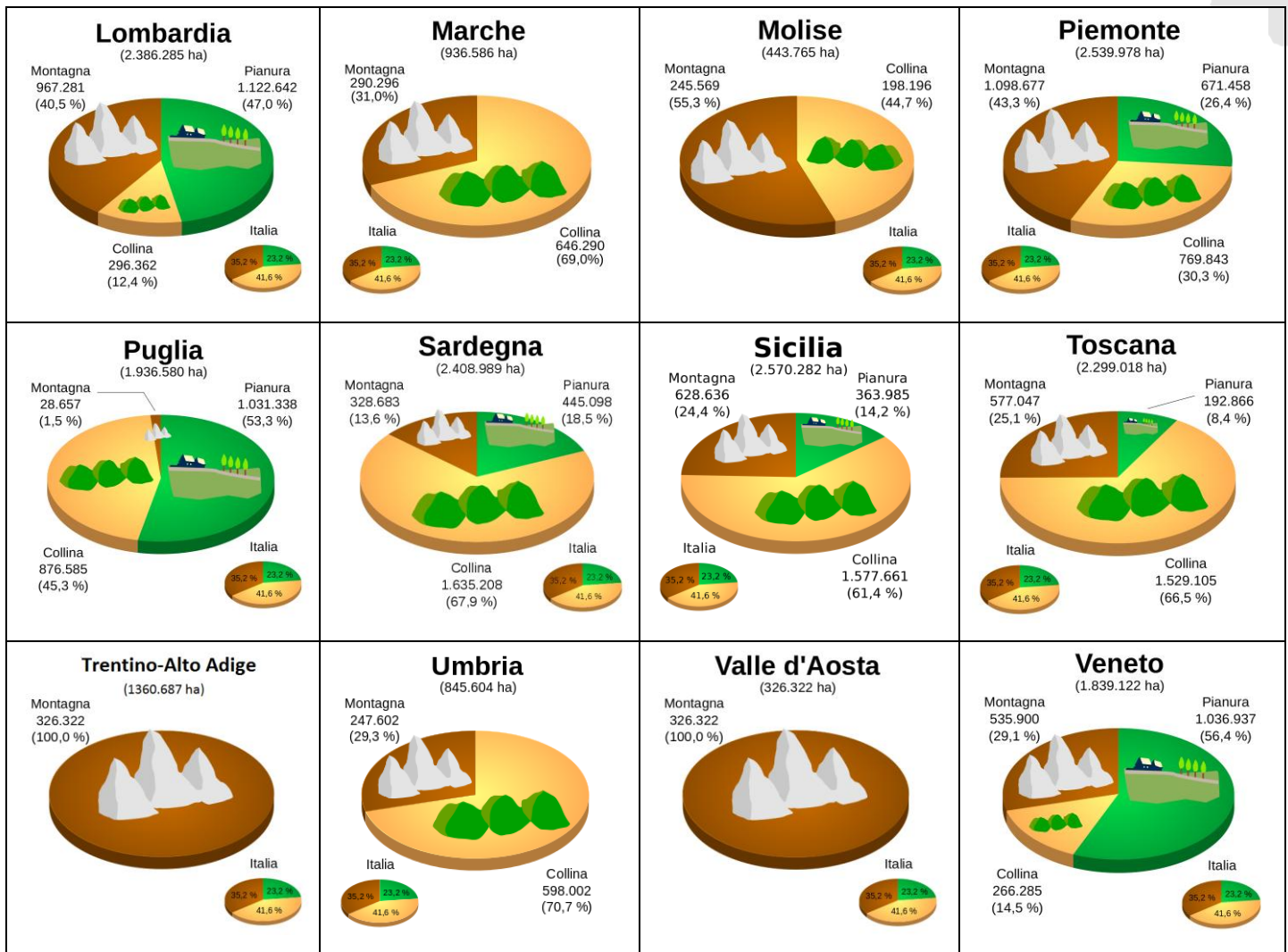
Giallo



Riflessione linguistica

Approfondimento linguistico-geografico

© Studio Arcobaleno Multimedia - Anno 2016



Questa Regione è più montuosa di

e meno montuosa di

Ci sono più colline che in

e meno colline che in

Le sue pianure sono più vaste di quelle di

e meno vaste di quelle di

Riflessione linguistica

Approfondimento linguistico-geografico

© Studio Arcobaleno Multimedia - Anno 2016



Per comprendere l'economia e il paesaggio della Regione

Le terre create dall'uomo

Nel passato la zona costiera del Lazio era ricoperta da paludi ed era molto malsana.

Nel 1930 venne bonificata, cioè le paludi furono prosciugate e trasformate in terreni coltivabili, che presero il nome di Maremma Laziale, Agro Pontino e Agro Romano.

In questa zona, accanto al mare, si estendono ora grandi campi coltivati e serre, ma dell'antico paesaggio paludoso è stata conservata una parte della foresta di Terracina e alcuni laghi costieri, che fanno parte del Parco Nazionale del Circeo.

Oggi nell'Agro Pontino si coltivano cereali, frutta e verdura in abbondanza, che vengono venduti nei grandi mercati di Roma.

Nel Lazio è diffuso l'allevamento degli ovini, cioè dei diversi tipi di pecore e capre.

Il loro latte è utilizzato per la produzione dell'ottimo formaggio pecorino.

Al largo del Golfo di Gaeta c'è un arcipelago costituito dalle Isole di Ponza, Palmarola, Zannone, Ventotene e Santo Stefano.

Durante il periodo estivo le isole sono meta di molti turisti, che accorrono per godersi lo splendido mare e i paesaggi incantevoli.

Trasforma il testo che hai letto in una intervista. Tu dovrai rispondere al giornalista che chiede informazioni sul paesaggio laziale.

La zona costiera fino agli anni 30 del secolo scorso era malsana. Che cosa ha fatto l'uomo per renderla coltivabile?

.....

Come si presenta ora quella stessa area?

.....

Come viene definita?

.....

Che cosa comprende e dove si trova il parco Nazionale del Circeo?

.....

Riflessione linguistica

Approfondimento linguistico-geografico

© Studio Arcobaleno Multimedia - Anno 2016



Dove si trova la foresta di Terracina?

.....

Qual è l'allevamento più diffuso nel Lazio?

.....

Quali sono i prodotti agricoli più coltivati?

.....

L'arcipelago di fronte al Lazio comprende cinque isole. Quali?

.....

Qual è il formaggio tipico del Lazio conosciuto in tutto il mondo?

.....

Ora fai tu una domanda e cerca di darti la risposta.

D:

R:

In conclusione...

Qual è la tua valutazione complessiva sull'economia di questa Regione?

.....

Quale attività vorresti svolgere? Perché?

.....

Dove vorresti abitare e perché?

.....

Che cosa suggeriresti a un turista di vedere?

.....

Quale prodotto artigianale vorresti acquistare per ricordo della tua visita in questa Regione?

.....

Riflessione linguistica

Approfondimento linguistico-geografico

© Studio Arcobaleno Multimedia - Anno 2016



LAZIO

Cuore d'Italia

Il Lazio si trova al centro della penisola italiana; è delimitato dalla catena degli Appennini a Est (1) e dal Mar Tirreno (2) a Ovest. Ha un paesaggio molto vario, caratterizzato da laghi vulcanici (3), montagne (4) e colline (5) attraversate dalla grande valle del fiume Tevere (6).

Il Lazio ha una storia antichissima (7). Ancora oggi Roma è una città importante dal punto di vista storico (8), artistico (9) e culturale (10) ed è la capitale della Repubblica Italiana.

Abbina le foto alle frasi che descrivono la Regione.



Fiume Tevere (.....)



Colline laziali (.....)



Montagne del Lazio: Terminillo (.....)



Lago vulcanico di Nemi (.....)

Riflessione linguistica

Approfondimento linguistico-geografico

© Studio Arcobaleno Multimedia - Anno 2016



Appennino laziale (.....)



Mare Tirreno (.....)



Roma: città della storia (.....)



Roma, città d'arte: la Cappella Sistina (.....)



Testimonianze dell'antica Roma (.....)



Roma: città di cultura (.....)

Riflessione linguistica

Approfondimento linguistico-geografico

© Studio Arcobaleno Multimedia - Anno 2016



Segna se le seguenti affermazioni sono vere (V) o false (F).

| | | |
|---|---|---|
| Il Lazio si trova al Nord della penisola italiana | V | F |
| Il Lazio è delimitato dalla catena degli Appennini a Est e dal Mar Tirreno a Ovest. | V | F |
| Il paesaggio del Lazio è prevalentemente montuoso | V | F |
| Roma è la capitale della Repubblica Italiana | V | F |

Ricerca il significato corretto di queste parole.

Penisola:

capitale:

Repubblica:

Scrivi in breve le caratteristiche della regione Lazio.

.....

.....

.....

.....

.....

Riflessione linguistica

Approfondimento linguistico-geografico

© Studio Arcobaleno Multimedia - Anno 2016



Rileggi la descrizione del territorio del Lazio e svolgi le seguenti attività.

Il Tevere e i suoi colli

Il Lazio ha un **paesaggio molto vario e diversificato**, che cambia spostandosi dall'interno verso la costa. La zona interna si estende **ai piedi degli Appennini** e appare come un'infinita distesa di colli e monti poco elevati, attraversata dalla grande valle formata dal fiume Tevere.

I monti più alti sono i Reatini, i Sabini, i Simbruini e i Monti Ernici che si trovano a Nord del fiume, al confine con l'Abruzzo. Nella fascia a Sud del Tevere si estendono invece i Monti Volsini, i Cimini, i Sabatini e i Colli Albani, caratterizzati da una tipica **forma a cono**, perché sono nati dall'eruzione di antichi vulcani.

I Monti Reatini e i Monti della Laga, che arrivano al confine del Parco Nazionale del Gran Sasso, sono ricoperti da fitte foreste di lecci, castagni e querce, e abitati da animali selvatici come i cinghiali, i lupi, i gatti selvatici e le volpi.

Il Lazio è una regione ricca di laghi. I laghi di Bolsena, Bracciano, Vico, Albano e Nemi sono **vulcanici**, si sono formati cioè, nel passato, dal riempimento del cratere di un vulcano spento.

Per questo hanno una **forma tondeggiante**.

Spiega il significato delle espressioni evidenziate in giallo.

- Paesaggio vario e diversificato:
- ai piedi degli Appennini:
- forma a cono:
- laghi vulcanici:
- forma tondeggiante:

Nella parte di testo sottolineata si parla di laghi di origine vulcanica nel Lazio.

Fai una ricerca e individua almeno altri tre laghi vulcanici in Italia e indica in quale regione si trovano.

LAGO

REGIONE

.....
.....
.....

.....
.....
.....