

Riflessione linguistica

Approfondimento linguistico-geografico

© Studio Arcobaleno Multimedia - Anno 2016



La posizione in Italia e il nome della Regione



Friuli-Venezia Giulia

Dove si trova questa Regione?

- A Nord
- Nel Centro
- A Sud

Con quali Regioni confina?

.....
.....
.....

Qual è l'origine del suo nome?

.....
.....
.....
.....

Riflessione linguistica

Approfondimento linguistico-geografico

© Studio Arcobaleno Multimedia - Anno 2016



Qual è il suo stemma?



Qual è il suo capoluogo di Regione?

.....

Riflessione linguistica

Approfondimento linguistico-geografico

© Studio Arcobaleno Multimedia - Anno 2016



La carta politica della Regione

Scrivi il nome di tutte le città più importanti della Regione, nella loro posizione.

A topographic map of the Friuli-Venezia Giulia region in Italy. The map shows the region's borders with Austria to the north, Slovenia to the east, and Veneto to the west. Major cities and towns are labeled, including Udine, Gorizia, Trieste, Pordenone, and Treviso. Mountain ranges like the Carniche and Prealpi are also indicated. Four empty rectangular boxes with dotted lines are connected to the map by lines, intended for labeling the most important cities: one at the top left, one at the top right, one at the bottom left, and one at the bottom right.

.....

.....

.....

.....

Riflessione linguistica

Approfondimento linguistico-geografico


© Studio Arcobaleno Multimedia - Anno 2016



Riconosci le città da uno dei monumenti più importanti che la rappresenta.



.....



.....



.....



.....

Conosci altri paesi di questa Regione? Se sì, quali?

.....
.....
.....

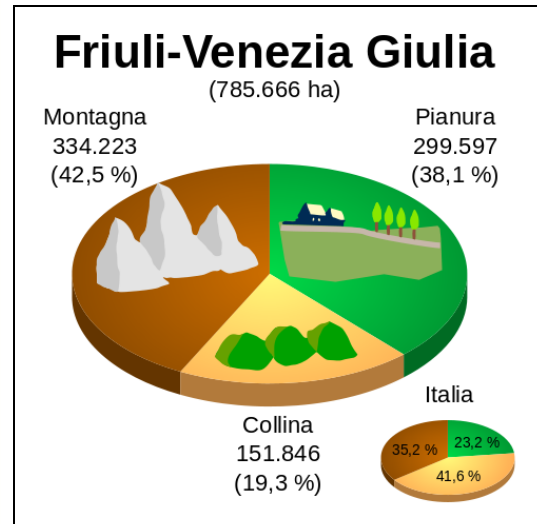
Riflessione linguistica

Approfondimento linguistico-geografico

© Studio Arcobaleno Multimedia - Anno 2016



Letture della carta fisica della Regione



Osserva la carta geografica e il grafico.

Individua le zone di montagna, di collina e di pianura.

Leggi il nome di paesi o di città che si trovano in zone di:

MONTAGNA

COLLINA

PIANURA

Quale area è più vasta?

.....

Questa Regione è bagnata dal mare?

.....

Vedi fiumi o laghi nel suo territorio? Se sì, quali?

.....

Riflessione linguistica

Approfondimento linguistico-geografico

© Studio Arcobaleno Multimedia - Anno 2016



Nelle carte geografiche il territorio, come hai visto, è caratterizzato dai colori simbolici.

Che cosa rappresentano questi colori?

Marrone scuro

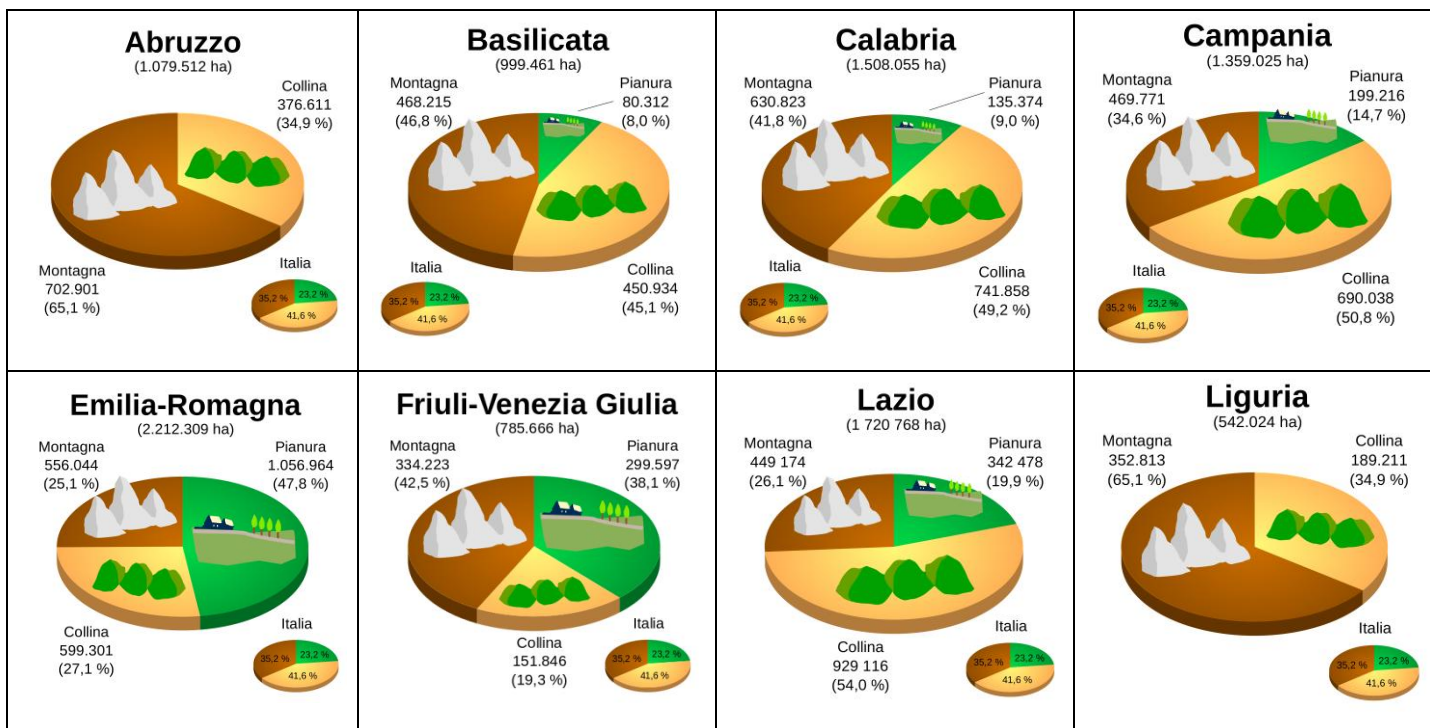
Marrone chiaro

Azzurro scuro

Azzurro chiaro

Verde

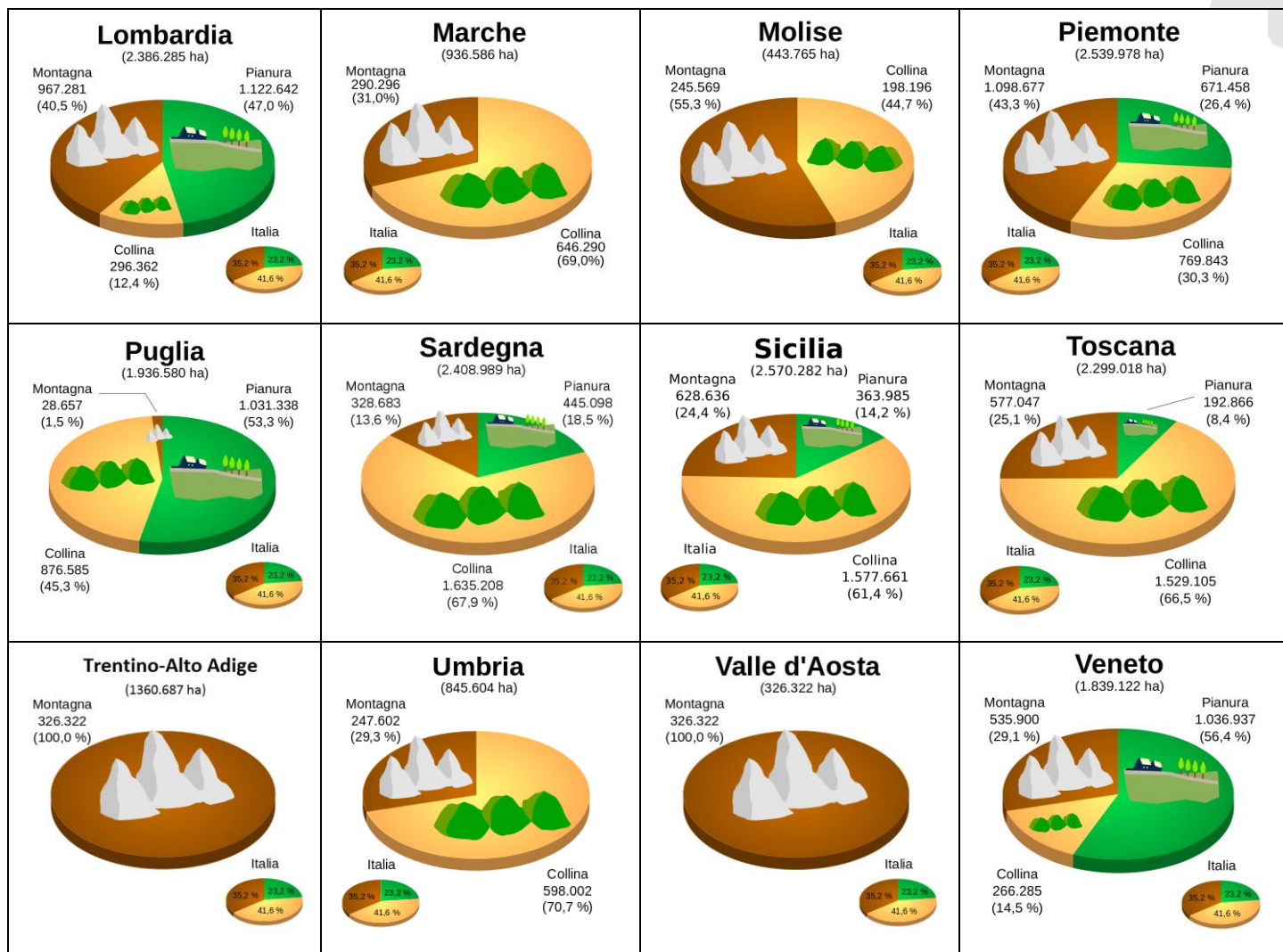
Giallo



Riflessione linguistica

Approfondimento linguistico-geografico

© Studio Arcobaleno Multimedia - Anno 2016



Questa Regione è più montuosa di

e meno montuosa di

Ci sono più colline che in

e meno colline che in

Le sue pianure sono più vaste di quelle di

e meno vaste di quelle di

Riflessione linguistica

Approfondimento linguistico-geografico

© Studio Arcobaleno Multimedia - Anno 2016



UNO SGUARDO ALLA CITTÀ



Questa è la mappa di una zona di Trieste che hai già visto negli itinerari di viaggio proposti da Everywhereinitalia. Scegli due tra i monumenti o le chiese o gli edifici che vedi disegnati e che desideri visitare. Collegati alle mappe di Google per poter verificare il percorso che devi fare a piedi partendo da uno dei due punti che hai scelto. Scrivi l'itinerario qui di seguito indicando anche i tempi di percorrenza necessari.

.....

.....

.....

.....

.....

.....

.....

.....

.....

.....

.....

.....

.....

.....

.....

.....

.....

.....

.....

.....

.....

Riflessione linguistica

Approfondimento linguistico-geografico

© Studio Arcobaleno Multimedia - Anno 2016



Per comprendere l'economia e il paesaggio della Regione

Ambiente, tradizioni e lavoro

In Friuli Venezia Giulia il lavoro dell'uomo è strettamente legato ai paesaggi naturali e alle tradizioni. Nell'ambiente alpestre sono sviluppate le tradizionali attività come l'allevamento delle mucche, la lavorazione dei prodotti tipici, l'artigianato artistico del legno e della pietra.

La parte alta della pianura padano-veneta è caratterizzata da terreni aridi detti magredi (o terre magre), dove i fiumi scompaiono sotto terra per riaffiorare più a valle, lungo la linea delle risorgive.

La fascia a valle delle risorgive è costituita da suoli grassi e umidi su cui prosperano, accanto alle coltivazioni di mais e barbabietole da zucchero, i vigneti e gli alberi da frutto. Le zone lagunari sono molto pescose, tanto che hanno favorito attività legate alla pesca e all'allevamento di mitili (noti come cozze). L'industria si è sviluppata nelle aree di pianura intorno ai capoluoghi di Pordenone, Udine e Trieste. Rinomati sono i cantieri navali di Monfalcone, dove ogni anno vengono varate lussuose navi da crociera. A partire dalla seconda metà del Novecento, nella regione ha avuto grande impulso il turismo: la fascia costiera è ben attrezzata per il turismo balneare; le zone montane sono sempre più apprezzate per la loro selvaggia e intatta bellezza.

Trasforma il testo che hai letto in una intervista. Tu dovrai rispondere al giornalista che chiede informazioni sul paesaggio friulano.

Da che cosa è determinato lo sviluppo delle attività economiche in Friuli-Venezia Giulia?

.....

Nella zona alpina che cosa si è sviluppato?

.....

E nella zona di pianura che cosa si pratica?

.....

Come sono chiamate le terre aride della pianura?

.....

Che cos'è la linea delle risorgive?

.....

Riflessione linguistica

Approfondimento linguistico-geografico

© Studio Arcobaleno Multimedia - Anno 2016



Che cosa si coltiva nella zona più umida?

.....

Quali sono i prodotti della pesca legati alle zone di tipo lagunare?

.....

Quali sono i prodotti artigianali più realizzati?

.....

Anche le industrie hanno avuto notevoli sviluppi. Dove sono collocate soprattutto?

.....

In particolare Monfalcone è famoso per la sua attività che dà lavoro a molte persone. Quali sono le industrie attive in questa zona?

.....

Lungo la costa è sviluppato il turismo. A che cosa è legato?

.....

Ora fai tu una domanda e cerca di darti la risposta.

D:

R:

In conclusione...

Qual è la tua valutazione complessiva sull'economia di questa Regione?

.....

Quale attività vorresti svolgere? Perché?

.....

Dove vorresti abitare e perché?

.....

Che cosa suggeriresti a un turista di vedere?

.....

Quale prodotto artigianale vorresti acquistare per ricordo della tua visita in questa Regione?

.....

Riflessione linguistica

Approfondimento linguistico-geografico

© Studio Arcobaleno Multimedia - Anno 2016



FRIULI VENEZIA GIULIA

Terra d'incontro

All'estremità nord-orientale dell'Italia, tra la Slovenia a Est (1) e l'Austria a Nord (2), si estende il Friuli Venezia Giulia, una regione piccola, ma straordinariamente ricca di bellezze naturali e di valori artistici e culturali.

Tra Cividale (3) e Gorizia (4) le Alpi Giulie (5) si abbassano e presentano ampi varchi, che hanno facilitato nei secoli il passaggio dei diversi popoli che hanno fatto la storia di questa parte d'Italia.

Come "racconta" il suo doppio nome, la regione, nata nel 1948, si compone del Friuli (che comprende il bacino del fiume Tagliamento (6), le Alpi Carniche (7) e la pianura padano-veneta (8) e della Venezia Giulia nel piccolo lembo sud-orientale della regione fra l'Isonzo (9) e Trieste (10), là dove il Mare Adriatico (11) tocca il suo punto più settentrionale.

Abbina le foto alle frasi che descrivono la Regione.



Verso l'Austria (.....)



Verso la Slovenia (.....)

Riflessione linguistica

Approfondimento linguistico-geografico

© Studio Arcobaleno Multimedia - Anno 2016



Gorizia (.....)



Cividale (.....)




Alpi Giulie (.....)



Pianura Veneta (.....)



Tagliamento (.....)



Alpi Carniche (.....)



Trieste (.....)



Fiume Isonzo (.....)



Mare Adriatico a Trieste (.....)

Riflessione linguistica

Approfondimento linguistico-geografico

© Studio Arcobaleno Multimedia - Anno 2016



Segna se le seguenti affermazioni sono vere (V) o false (F).

Il Friuli Venezia Giulia si trova all'estremità Nord-Orientale dell'Italia	V	F
Il Friuli Venezia Giulia confina a Est con la Slovenia	V	F
Questa regione è bagnata dal Mar Tirreno	V	F
Il Friuli Venezia Giulia è stato dichiarato una regione unica nel 1948	V	F

Ricerca il significato corretto di queste parole.

Varchi:

bacino:

lembo:

Scrivi in breve le caratteristiche della regione Friuli Venezia-Giulia.

.....

.....

.....

.....

.....

Riflessione linguistica

Approfondimento linguistico-geografico

© Studio Arcobaleno Multimedia - Anno 2016



Rileggi la descrizione del territorio del Friuli Venezia Giulia e svolgi le seguenti attività.

Magie della natura e varietà dei paesaggi

Lo scrittore Ippolito Nievo definì il Friuli Venezia Giulia “un piccolo compendio dell’universo”, cioè un armonico riassunto di tutto ciò che di bello esiste sulla Terra.

Le zone montuose comprendono a Nord le Alpi Carniche, che raggiungono i 2780 metri con il Monte Coglians; a Nord-Ovest le Dolomiti friulane che offrono spettacoli di incomparabile bellezza; a Est un tratto delle Alpi Giulie con il Monte Canin (metri 2585). Le catene alpine **digradano lentamente** nelle Prealpi e poi in **rilievi collinari** spesso ricoperti da boschi fitti. A Sud trovano posto il paesaggio di pianura e le lunghe spiagge adriatiche. Da non dimenticare i laghetti del Predil e di Fusine, le **zone lagunari** di Marano e Grado, gli ambienti sassosi e aspri dell’altopiano del Carso, dove le acque hanno scavato grotte e **profonde cavità**.

Dalle montagne scendono verso l’Adriatico i tre fiumi principali: il Tagliamento, l’Isonzo, il Livenza e... non manca nemmeno un fiume “fantasma”: il Timavo, il cui corso si mostra in superficie soltanto per pochi chilometri, tra Monfalcone e Duino.

Le coste, nella parte meridionale della regione, sono basse, sabbiose e orlate di lagune a Ovest; diventano più alte e rocciose, adatte ad accogliere **strutture portuali** a Est, nel Golfo di Trieste. Nella regione vivono animali e piante tipici dei vari paesaggi. Lepri, pernici, galli cedroni, camosci, cervi, aquile... abitano la montagna; dalle foreste della Slovenia, a volte, sconfinano gli orsi. Aironi, folaghe, falchi di palude popolano l’ambiente delle lagune costiere. Nei pascoli, al di sopra delle pinete, si possono scorgere molte specie di fiori (genziana, campanula, rododendro, croco).

Riflessione linguistica

Approfondimento linguistico-geografico

© Studio Arcobaleno Multimedia - Anno 2016



Spiega il significato delle espressioni evidenziate in giallo.

- Digradano lentamente:
- rilievi collinari:
- zone lagunari:
- profonde cavità:
- strutture portuali:

Nel testo sono citati alcuni nomi di piante e di animali che vedi sottolineati.

Individua, quindi, quali nomi appartengono alla flora e quali alla fauna.
Cerca le loro foto per riconoscerli e scrivi il loro nome inglese.

FLORA

FAUNA

ITALIANO

INGLESE

ITALIANO

INGLESE

.....
.....
.....
.....
.....
.....
.....
.....
.....
.....
.....
.....
.....
.....
.....
.....
.....
.....
.....
.....
.....
.....