

Riflessione linguistica

Approfondimento linguistico-geografico

© Studio Arcobaleno Multimedia - Anno 2016



La posizione in Italia e il nome della Regione



Abruzzo

Dove si trova questa Regione?

- A Nord
- Nel Centro
- A Sud

Con quali Regioni confina?

.....
.....
.....

Qual è l'origine del suo nome?

.....
.....
.....
.....

Riflessione linguistica

Approfondimento linguistico-geografico

© Studio Arcobaleno Multimedia - Anno 2016



Qual è il suo stemma?



Qual è il suo capoluogo di Regione?

.....

Riflessione linguistica

Approfondimento linguistico-geografico

© Studio Arcobaleno Multimedia - Anno 2016



La carta politica della Regione

Scrivi il nome di tutte le città più importanti della Regione, nella loro posizione.

A detailed topographic map of the Abruzzo region in Italy. The map shows the coastline of the Adriatic Sea (MARE ADRIATICO) to the east, and neighboring regions: MARCHE to the north, LAZIO to the southwest, and MOLISE to the southeast. Major cities are marked with red dots and labeled: Teramo, Pescara, Chieti, and L'Aquila. Other labeled locations include Giulianova, Roseto degli Abruzzi, Montesilvano, Ortona, Lanciano, Vasto, Guardiagrele, Aversa, Monte Amaro, Sulmona, Roccaraso, and Castel di Sangro. Mountain ranges like the Monti della Laga, Gran Sasso d'Italia, and Monti della Meta are also shown. Four empty rectangular boxes with dotted lines are connected to the map by lines, indicating where to write the names of the four main cities: Teramo, Pescara, Chieti, and L'Aquila.

Riflessione linguistica

Approfondimento linguistico-geografico

© Studio Arcobaleno Multimedia - Anno 2016



Riconosci le città da uno dei monumenti più importanti che la rappresenta.



.....



.....



.....



.....

Conosci altri paesi di questa Regione? Se sì, quali?

.....
.....
.....

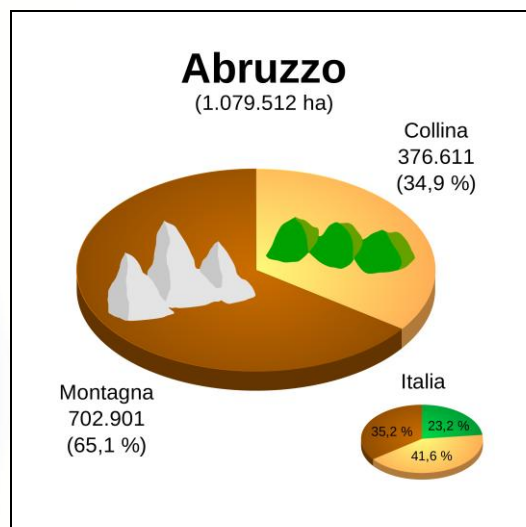
Riflessione linguistica

Approfondimento linguistico-geografico

© Studio Arcobaleno Multimedia - Anno 2016



Letture della carta fisica della Regione



Osserva la carta geografica e il grafico.

Individua le zone di montagna, di collina e di pianura.

Leggi il nome di paesi o di città che si trovano in zone di:

MONTAGNA

COLLINA

PIANURA

Quale area è più vasta?

.....

Questa Regione è bagnata dal mare?

.....

Vedi fiumi o laghi nel suo territorio? Se sì, quali?

.....

Riflessione linguistica

Approfondimento linguistico-geografico

© Studio Arcobaleno Multimedia - Anno 2016



Nelle carte geografiche il territorio, come hai visto, è caratterizzato dai colori simbolici.

Che cosa rappresentano questi colori?

Marrone scuro

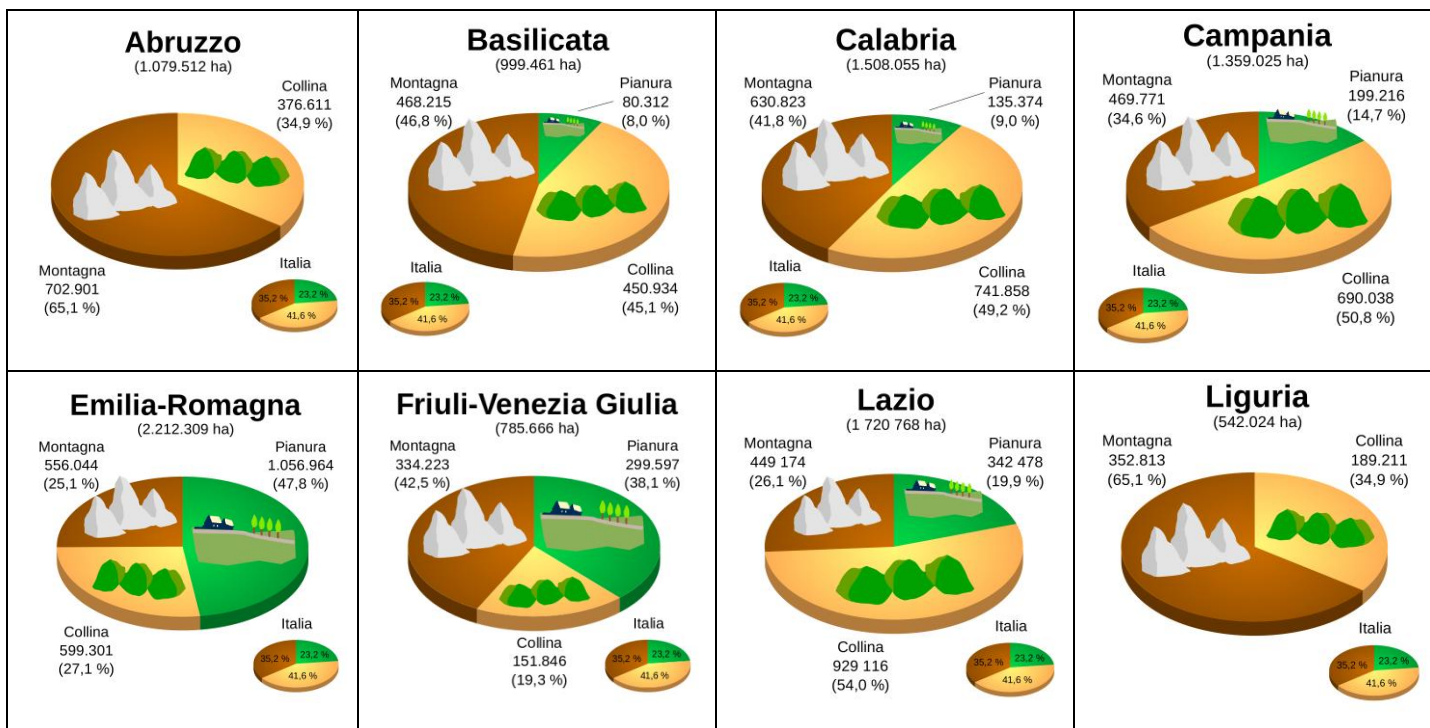
Marrone chiaro

Azzurro scuro

Azzurro chiaro

Verde

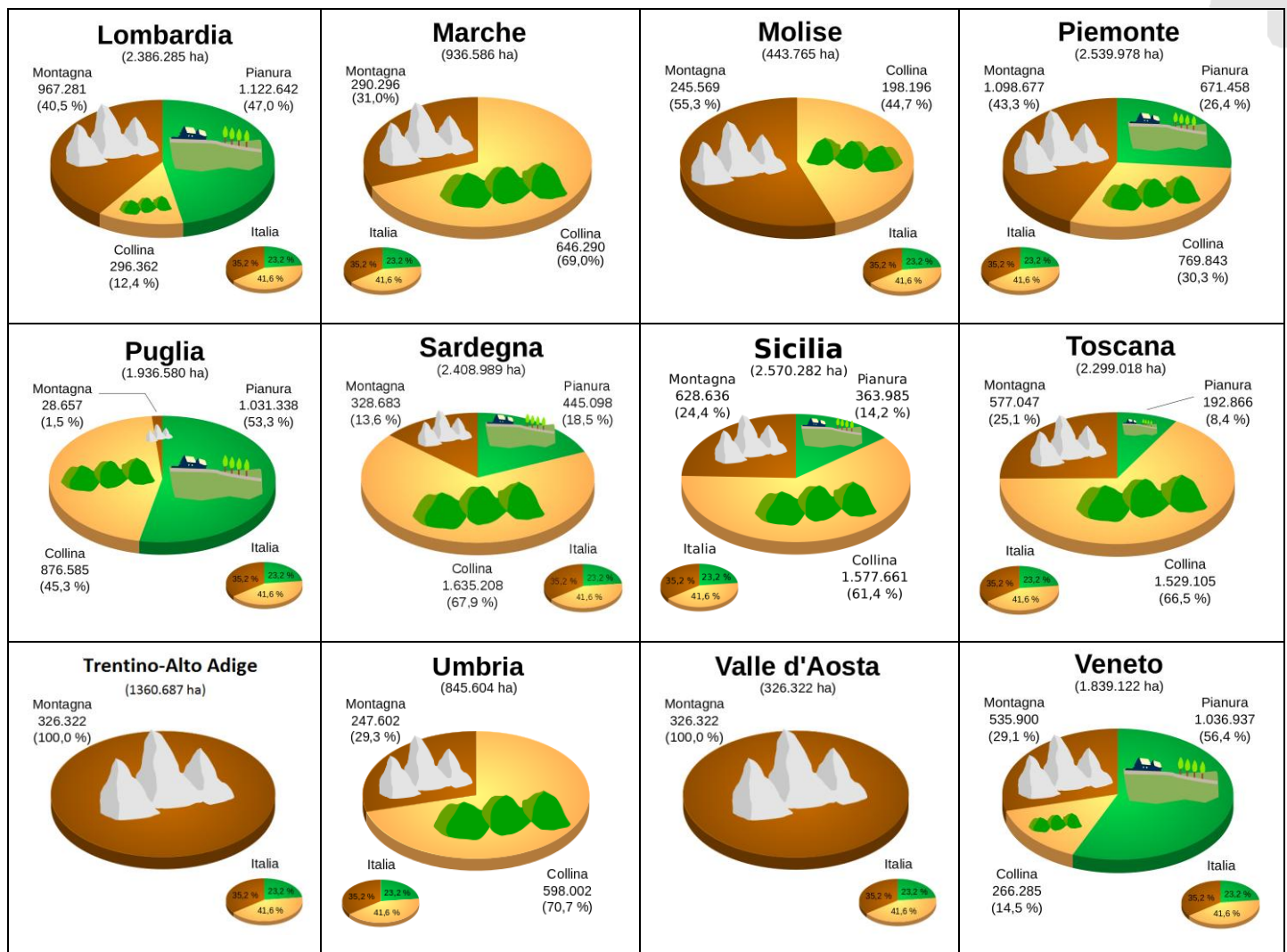
Giallo



Riflessione linguistica

Approfondimento linguistico-geografico

© Studio Arcobaleno Multimedia - Anno 2016



Questa Regione è più montuosa di

e meno montuosa di

Ci sono più colline che in

e meno colline che in

Le sue pianure sono più vaste di quelle di

e meno vaste di quelle di

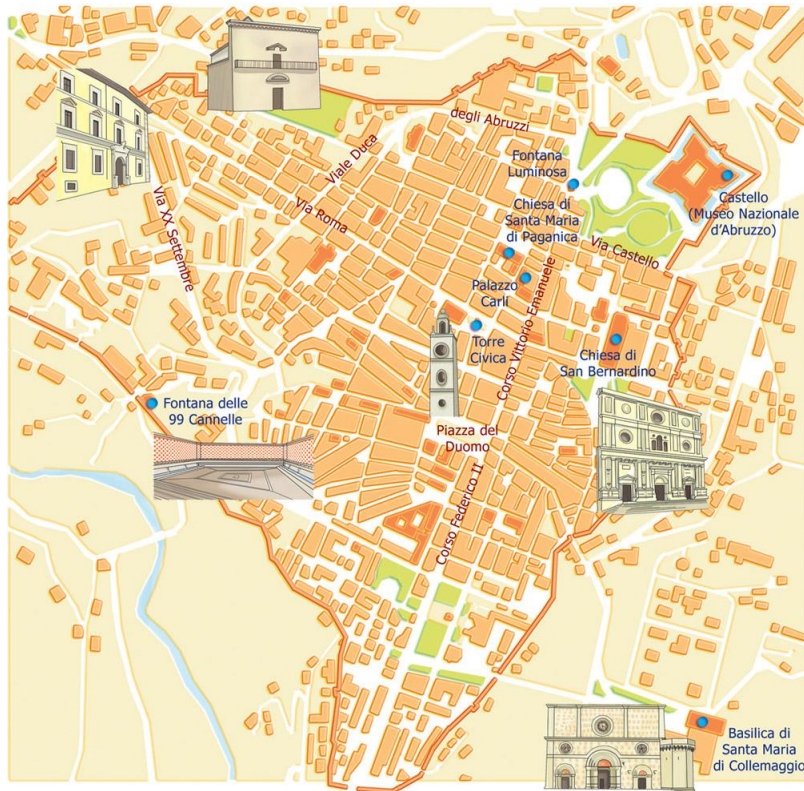
Riflessione linguistica

Approfondimento linguistico-geografico

© Studio Arcobaleno Multimedia - Anno 2016



UNO SGUARDO ALLA CITTÀ



Questa è la mappa di una zona dell'Aquila che hai già visto negli itinerari di viaggio proposti da Everywhereinitalia. Scegli due tra i monumenti o le chiese o gli edifici che vedi disegnati e che desideri visitare. Collegati alle mappe di Google per poter verificare il percorso che devi fare a piedi partendo da uno dei due punti che hai scelto. Scrivi l'itinerario qui di seguito indicando anche i tempi di percorrenza necessari.

.....

.....

.....

.....

.....

.....

.....

.....

.....

.....

Riflessione linguistica

Approfondimento linguistico-geografico

© Studio Arcobaleno Multimedia - Anno 2016



Per comprendere l'economia e il paesaggio della Regione

Dalla terra e dal mare

Il terreno e il clima delle montagne non consentono coltivazioni ma, fin dall'antichità, vi è stata praticata la pastorizia. Le greggi durante la stagione fredda venivano trasferite verso le zone pianeggianti, soprattutto nelle campagne della Puglia e del Lazio ricche di pascoli. Questa pratica si chiamava "transumanza". Oggi le greggi hanno carattere "stanziale", cioè restano tutto l'anno sui pascoli abruzzesi. Altro allevamento diffuso nella regione è quello dei bovini e dei caprini.

L'agricoltura è praticata da sempre in Abruzzo, benché la terra non offra facilmente i suoi doni. In alcune zone i contadini devono lavorare con fatica e sacrificio. In tutta la regione si producono cereali, legumi, ortaggi e frutta. Le zone collinari verso la costa sono, in genere, le più fertili e si presentano ricche di oliveti e di vigneti. Prodotti tipici sono lo zafferano e la liquirizia. Ottimo e profumato è il miele. Lungo la costa si esercita la pesca che consente di portare sulla tavola una grande varietà di pesci e crostacei.

Vita in Abruzzo

Molti paesi di montagna sono stati abbandonati: gli abitanti si sono trasferiti nei centri più sviluppati, soprattutto verso la costa, dove la vita è meno dura e dove è possibile trovare lavoro nelle industrie (mobilifici, fonderie, molini, oleifici ecc.) e nei centri balneari.

Già nel secolo scorso si era verificata una forte emigrazione di Abruzzesi verso l'estero (soprattutto America e Australia) e verso l'Italia Settentrionale.

Oggi vari borghi tornano a vivere grazie alla riscoperta da parte dei turisti.

Mani operose

L'artigianato è sopravvissuto nonostante lo sviluppo delle industrie. Ancora oggi mani operose producono tradizionali ceramiche artistiche, oggetti di rame di uso comune, tessiture e merletti, borse di pelle e selle per i cavalli, strumenti musicali e perfino... preziosi gioielli d'oro.

Trasforma il testo che hai letto in una intervista. Tu dovrai rispondere al giornalista che chiede informazioni sul paesaggio abruzzese.

Qual è stata l'attività praticata fin dall'antichità in Abruzzo?

.....

Riflessione linguistica

Approfondimento linguistico-geografico

© Studio Arcobaleno Multimedia - Anno 2016



Che cosa significa transumanza? In quali Regioni si svolge?

.....

Quali sono i prodotti agricoli più coltivati?

.....

E quali sono quelli tipici della Regione?

.....

Tra le attività economiche è esercitata la pesca?

.....

Quali industrie sono presenti nel territorio abruzzese?

.....

L'artigianato che cosa produce?

.....

L'Abruzzo è stata terra di emigrazione. Verso quali nazioni soprattutto si è rivolta?

.....

Ora fai tu una domanda e cerca di darti la risposta.

D:

R:

In conclusione...

Qual è la tua valutazione complessiva sull'economia di questa Regione?

.....

Quale attività vorresti svolgere? Perché?

.....

Dove vorresti abitare e perché?

.....

Che cosa suggeriresti a un turista di vedere?

.....

Quale prodotto artigianale vorresti acquistare per ricordo della tua visita in questa Regione?

.....

Riflessione linguistica

Approfondimento linguistico-geografico

© Studio Arcobaleno Multimedia - Anno 2016



ABRUZZO

Gioielli in un mare verde

Regione dell'Italia Centrale, la più verde d'Europa, è situata fra la catena degli Appennini (1) e il Mar Adriatico (2). Confina con le Marche (3), il Lazio (4) e il Molise (5). È in gran parte montuosa (6), tranne la fascia costiera (7) che si estende per circa 130 chilometri quasi completamente rettilinei. È percorsa da numerosi fiumi (8) e torrenti (9). Tutti i corsi d'acqua sfociano nel Mar Adriatico, tranne il Velino (10) e il Liri (11) che si versano nel Mar Tirreno.

In Abruzzo sono presenti anche laghi naturali (12) e artificiali (13).

Sul Gran Sasso si trova un piccolo ghiacciaio, quello del Calderone (14), l'unico dell'Appennino e il più meridionale d'Europa.

Abbina le foto alle frasi che descrivono la Regione.



Mare Adriatico (.....)



Appennini in Abruzzo (.....)

Riflessione linguistica

Approfondimento linguistico-geografico

© Studio Arcobaleno Multimedia - Anno 2016



Panorama del Molise (.....)



Panorama marchigiano (.....)



Panorama del Lazio (.....)



Torrenti d'Abruzzo (.....)



Fiume Pescara (.....)



Costa d'Abruzzo (.....)



Abruzzo montuosa (.....)

Riflessione linguistica

Approfondimento linguistico-geografico

© Studio Arcobaleno Multimedia - Anno 2016




Lago naturale di Scanno (.....)



Lago artificiale di Barrea (.....)



Ghiacciaio del Calderone (.....)



Fiume Velino (.....)



Fiume Liri (.....)

Segna se le seguenti affermazioni sono vere (V) o false (F).

L'Abruzzo è situato tra la catena degli Appennini e il Mar Tirreno	V	F
La regione è in gran parte pianeggiante	V	F
In Abruzzo sono presenti molti laghi	V	F
L'Abruzzo confina con le Marche, il Lazio e il Molise	V	F

Ricerca il significato corretto di queste parole.

Montuosa:

rettilinei:

sfociano:

Riflessione linguistica

Approfondimento linguistico-geografico

© Studio Arcobaleno Multimedia - Anno 2016



Scrivi in breve le caratteristiche della regione Abruzzo.

.....

.....

.....

.....

.....

Rileggi la descrizione del territorio dell’Abruzzo e svolgi le seguenti attività.

Vette maestose e specchi blu

I monti dell’Abruzzo sono davvero spettacolari! Il Massiccio del Gran Sasso d’Italia comprende il Corno Grande (2912 metri), il più alto degli Appennini; più a Nord, al confine con le Marche, vi sono i Monti della Laga, con il Lago di Campotosto, magnifico **specchio blu** creato artificialmente; a Sud la Maiella, con oltre 30 cime, fra cui il Monte Amaro (2793 metri); inoltre ci sono i Monti Simbruini, i Monti della Meta, il Morrone, il Velino e il Sirente, ognuno con **caratteri paesaggistici** diversi.

Fra una zona montuosa e l’altra sono presenti solchi profondi scavati dai fiumi: fra questi, il Tronto, che per un tratto divide l’Abruzzo dalle Marche; il Trigno e il Sangro, che segnano il confine con il Molise; l’Aterno, che nasce sui Monti della Laga, si unisce al Pescara e riceve le limpide acque del Tirino.

Un aspetto tipico del territorio è rappresentato dalle “conche”, ampie vallate che si aprono fra i **massicci montuosi**. Le principali sono la Conca Aquilana, quella Sulmonese e la Conca del Fùcino, che è stata creata artificialmente prosciugando il Lago Fùcino.

Numerose sono le riserve naturali, ricche di vegetazione e di **fauna selvaggia**.

Rocce scolpite dalle acque

Parte della regione è “carsica”: è costituita cioè da **roccia calcarea**, che viene erosa facilmente dalle acque e forma “sculture” spettacolari: gole, canyon, grotte profonde, laghetti sotterranei e cascate di grande bellezza.

Spiega il significato delle espressioni evidenziate in giallo.

Specchio blu:

caratteri paesaggistici:

massicci montuosi:

fauna selvaggia:

roccia calcarea:

Riflessione linguistica

Approfondimento linguistico-geografico

© Studio Arcobaleno Multimedia - Anno 2016



Nel testo sono citati alcuni nomi di monti, di fiumi e di laghi che vedi sottolineati.

Inseriscili nella tabella al posto giusto.

MONTI

.....
.....
.....
.....
.....
.....
.....
.....
.....
.....
.....
.....
.....
.....
.....

FIUMI

.....
.....
.....
.....
.....
.....
.....
.....
.....
.....
.....
.....
.....
.....
.....

LAGHI

.....
.....
.....
.....
.....
.....
.....
.....
.....
.....
.....
.....
.....
.....
.....